

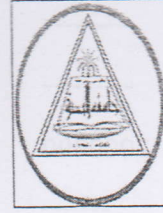
أسئلة الدور الثاني

للعام الدراسي 2023-2024

الدراسة الصباحية والمسائية

قسم المحاسبة

المرحلة الأولى



اجب عن أربعة أسئلة مما يأتي ولكل سؤال 12.5 درجة

س1: لدى احدى الشركات مجموعة من الموجودات وكانت ارصدها كالتالي.

مكائن 2000000 دينار ، مخصص اندثار المكائن 6000000 دينار ، سيارات 40000000 دينار ، مخصص انثار السيارات 8000000 دينار ، اثاث 10000000 دينار ، مخصص اندثار الاثاث 2000000 دينار وذلك بتاريخ 2015/12/31.

- بتاريخ 2016/1/3 اشترت الشركة ماكنة بمبلغ 8000000 دينار ذات كفاءة عالية دفعت نقدا كما دفعت المصاريف التلية بشيك ، أجور نقل الماكنة 100000 ، أجور نصبها وبناء قاعدة 250000 دينار ، أجور الاشراف من قبل المهندسين 150000 دينار.

- 1/10 بسبب عطل في احدى المكائن القديمة فقد تم إضافة مآطور بقيمة 4000000 دينار دفعت نقدا.

- 2/2 تم تصليح احدى السيارات واطافة دهن بمبلغ 250000 دينار دفعت نقدا.

3/1 احتاجت الشركة الى سيولة نقدية فقررت بيع ربع المكائن القديمة بمبلغ 6700000 دينار نقدا سبق وان اشترت بتاريخ 2012/8/30.

3/4 قررت استبدال نصف المكائن القديمة باخرى قيمتها السوقية 11000000 دينار كما دفعت مبلغ 3000000 دينار بشيك خلال تاريخ شرائها 2015/1/1.

4/1 باعت نصف الاثاث بمبلغ 4500000 دينار بشيك تاريخ شراؤه 2014/7/1

المطلوب : اثبات العمليات أعلاه علما ان نسبة الاندثار المكائن 5% والاثاث 10% قسط ثابت.

س2: اليك بعض الارصدة الظاهرة ضمن ميزان المراجعة لشركة المنار التجارية كما في 2020/12/31 (المبلغ بالديناري)

اسم الحساب	الارصدة المدينة	الارصدة الدائنة
بضاعة اول المدة	??	-----
المشتريات - المبيعات	??	??
مردودات المبيعات - مردودات مشتريات	50000	250000
كلفة البضاعة المباعة	??	-----
البضاعة المعدة للبيع	900000	-----
خصم مسموح به - خصم مكتسب	10000	150000
مجمل الربح (متاجرة)	350000	-----
بضاعة اخر المدة	??	-----
مدينون - دائنون	600000	450000
ايجار	12000	-----
قوائد مدينة - قوائد دائنة	12000	18000
عولة وكلاء الشراء	10000	-----

-----	200000	م. نقل المشتريات
-----	1000000	مصاريف عامة
2000000	500000	ارباح وخسائر بيع واستبدال اصول ثابتة
-----	500000	رواتب
20000000	80000000	المباني ومخصص الائتثار
8000000	40000000	السيارات ومخصص الائتثار
-----	100000000	الاراضي
4000000	6000000	اوراق قبض- اوراق دفع
9000000	10000000	نقدية - قروض

وقد ظهرت المعلومات التالية.

المشتريات تعادل 3/2 من البضاعة المعدة للبيع.

الخصم المبيعات تعادل 2/5 من مجمل الربح.

المخصصات السيئات بنسبة 20% قسط ثابت والمباني 10% قسط متناقص.

المخصصات ديون معدومة 2000000 دينار ديون معدومة.

المخصصات عرض بتاريخ 2020/4/1 بفائدة 3% سنويا على ان يتم سداده بعد مرور سنتين من تاريخ استلامه.

المخصصات شركة تكوين مخصص الديون المشكوك بها بنسبة 2% من رصيد المدينين اخر المدة.

المخصصات اجراء القيود اللازمة للمعلومات اعلاه.

ب- اعداد كشف الدخل عن السنة المنتهية في 2020/12/31.

ملاحظات: وضح المقصود بميزان المراجعة وأنواعه ثم بين أهمية اعداد ميزان المراجعة بالنسبة للمشروع.

الفرق بين ميزان المراجعة والميزانية العمومية.

ماهي المعايير المستخدمة للتمييز بين المصروفات الايرادية والرأسمالية وضح بأمثلة.

ج- أجب بكلمة صح ام خطأ امام العبارات التالية وتصحيح الخطأ ان وجد.

1- اشترت شركة ارض مساحتها 300 م سعر المتر المربع 500000 دينار وقد دفع المبلغ نقدا وفي نفس التاريخ تم دفع

مصاريف التسجيل والبالغة 250000 دينار و100000 دينار اجور دلالية نقداً. 1/8 قامت الشركة ببناء مخزن للشركة بكلفة

20000000 دينار دفعت تكاليف البناء. سجل القيد في السجلات.

من مذكورين

170000000 ح/ الاراضي

250000 ح/ مصاريف تسجيل

100000 ح/ اجور دلالية

170350000 الى ح/ الصندوق

2- استبدلت احدى المكنائن القديمة باخرى متطورة قيمتها السوقية 8000000 دينار كما دفعت مبلغ 2000000 دينار بشيك ، علما ان

خصم الاستبدال 1000000 دينار. سجل القيد.

8000000 من ح/ المكنائن الجديدة

الى مذكورين

2000000 ح / المصرف جاري

6000000 ح / مكانن قديمة

3- تم بيع اصل ثابت بعد مرور ثلاث سنوات علما ان الشركة تتبع طريقة القسط الثابت بحساب الامتار والطريقة غير المباشرة بثبات الانذار وبهذا يتم شطب حساب الاصل الثابت من السجلات بصافي القيمة المقترية بعد طرح كلفة الامتار من تاريخ الشراء لغاية تاريخ البيع.
س4: عند مراجعتك لدفاتر محلات الأمل التجارية ظهر حساب المبيعات بالشكل التالي.

ح / المبيعات

500000 رصيد 5/1
600000 من ح/النقدية 5/6
400000 من ح/مكروين 5/8

400000 إلى مذكورين 5/3
150000 إلى ح/سعيد 5/10
50000 إلى ح/خصم كمية 5/15
مسموح به

وفيما يلي العمليات التي حدثت فعلاً:
5/1 كان رصيد ح/ المبيعات مبلغ 500000 دائناً.
5/3 رد كريم بضاعة بمبلغ 250000 دينار كما تم السماح إلى كامل بقيمة 150000 دينار.
5/6 تم بيع مكانن بمبلغ 600000 دينار نقداً وبربح قدره 200000 دينار بشيك.
5/8 تم بيع بضاعة بشيك بمبلغ 400000 دينار وبخصم تجاري 10% وسجلت العملية كالتالي:
من مذكورين
360000 ح/ النقدية
40000 ح/خصم مسموح به
400000 إلى ح/ المبيعات
5/10 تم بيع بضاعة على الحساب إلى سعيد بمبلغ 150000 دينار.
5/15 تم إرسال إشعار بمقدار خصم الكمية المسموح به إلى التاجر علاء.
فإذا علمت إن عمليات الترحيل تمت بصورة صحيحة.
المطلوب: 1- إجراء قيود التصحيح إذا علمت إن الأخطاء اكتشفت خلال الشهر.
2- ترصيد الحساب بعد تصحيح الأخطاء.

س5: 1/ الأتي حساب المتاجرة لشركة الرافدين عن السنة المنتهية في 2022/12/31.

ح / المتاجرة عن السنة المنتهية في 2022/12/31

؟؟ ح / المبيعات
؟؟ ح / مردودات ومسموحات المشتريات
؟؟ ح / بضاعة آخر المدة

؟؟ ح / بضاعة أول المدة
3500000 ح / المشتريات
100000 ح / مصاريف نقل المشتريات
500000 ح / مردودات المبيعات
ح / أ.خ

7500000

المطلوب:- 1- إيجاد القيم المجهولة علماً إن كلفة البضاعة المعدة للبيع 6500000 دينار ، صافي المبيعات 4500000 دينار ، صافي
المشتريات 3400000 دينار .

2- إيجاد كلفة البضاعة المباعة.

3- إعداد كشف المتاجرة عن السنة المنتهية في 2022/12/31

مع التمنيات بالتوفيق

ال
رئيس القسم

د. إلهام جعفر الشاوي

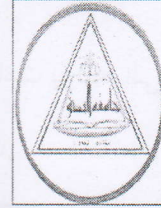
ال
مدرس المادة

د. إلهام جعفر الشاوي

المادة: محاسبة مالية 1
المرحلة : الاولى
التاريخ: / / 2024



امتحان الدور الثاني
للعام الدراسي
2024/2023



جامعة البصرة
كلية الإدارة والاقتصاد
قسم المحاسبة

اجب عن أربعة أسئلة مما يأتي ولكل سؤال 12.5 على ان يكون الأول بضمنها.

س1: في 5/1 باع سالم الى محمود بضاعة على الحساب بمبلغ 5000000 دينار .

5/10 ورد الى سالم من محمود خمس كمبيالات كالآتي.

رقم الكمبيالة	القيمة	تاريخ الاستحقاق
1	1000000	8/10
2	1500000	9/10
3	500000	10/10
4	1000000	11/10
5	1000000	12/10

واليك ما تم بشأن الكمبيالات الخمس.

5/14 أرسلت الكمبيالة الأولى والخامسة للمصرف للتحويل.

- تاريخ الكمبيالة الأولى ورد اشعار من المصرف يفيد بإضافة قيمتها الى الحساب الجاري مع استقطاع مصاريف التحصيل والبالغة قيمتها 20000 دينار.

- بتاريخ استحقاق الكمبيالة الثانية تم سدادها بشيك اودع في الصندوق.

- 12/15 رفض محمود دفع الكمبيالة الخامسة الى المصرف مما اضطر الأخير رفع دعوى قضائية كلفته 10000 دينار كما رفض دفع الكمبيالة الثالثة والرابعة الى سالم وحملة بمصاريف قضائية بلغت قيمتها 30000 دينار دفعت نقداً.

12/20 تم الاتفاق بين الطرفين على الآتي.

- يدفع محمود نصف قيمة الكمبيالات نقداً والباقي يحرر كمبياليتين الأولى بمبلغ 500000 دينار والثانية بالمتبقي مع تحمليه بفوائد تأخرية قيمتها 50000 دينار .

المطلوب : اثبات القيود اللازمة للعمليات أعلاه في سجلات الطرفين.

س2: حدثت العمليات التالية في سجلات شركة الأحسان التجارية.

2016/3/2 تم شراء بضاعة من شركة الانوار التجارية بالاجل وبمبلغ 10000000 دينار وبخصم كمية وفق الآتي.

اكثر من 500000 – 1000000 3% ، اكثر من 1000000 – 3000000 4%

أكثر من 3000000 – 5000000 %5 ، ما زاد عن 5000000 %6.

3/20 وجدت شركة الاحسان ان هناك بضاعة تالفة بمقدار 500000 دينار قامت بردها الى شركة الانوار.

3/25 اشترت شركة الانوار الاحسان بمقدار خصم الكمية وأرسلت اشعار بذلك.

3/30 سددت شركة الاحسان نصف المستحق بشيك والمتبقي حررت به كمبيالة تستحق بعد اربعة اشهر.

المطلوب: اثبت العمليات في سجلات كل من شركة الانوار و الاحسان.

س3: افرض أن احدى الشركات تتبع طريقة القيد المفرد في تسجيل عملياتها وقد امكن الحصول على البيانات التالية عن سنة 2020 .

الحساب	2020/1/1	2020/12/31
الإثبات	1000000	7000000
بضاعة	4000000	5000000
أوراق قبض	??	2000000
دائنون	1300000	??
تقنية	1200000	800000

المعلومات الإضافية:-

1- صافي المركز المالي أول الفترة 6400000 وأخرها 7000000 دينار.

2- بلغت المسحوبات خلال الفترة 200000 دينار والأضافات ??.

3- صافي الخسارة 300000 دينار.

المطلوب:- أ- استخراج البيانات الناقصة مستخدماً طريقة القيد المفرد.

ب- أعداد قائمة نتيجة الأعمال وقائمة المركز المالي كما في 2020/12/31.

س4: فيما يلي حسابي الصندوق والمدينون كما ظهر في دفتر الأستاذ.

ح/ الصندوق

المدين	الدائن
5000000 رصيد 5/1	3000000 ح/ المشتريات 5/5
?? ح/ المبيعات 5/4	6000000 ح/ الدائنون 5/7
2000000 ح/ المدينين 5/10	7000000 رصيد مرحل 5/31
16000000	16000000

ح/ المدينون

الدين	المدين
8000000 ح/ المصرف 6/9	6/1 ?? رصيد منقول
10000000 رصيد مرحل 6/30	7000000 ح/ المبيعات 6/6
18000000	18000000

المطلوب: 1- اعداد قيود اليومية التي أدت الى ظهور حسابي الصندوق والمدينون في دفتر الأستاذ بالشكل أعلاه.

2- إيجاد قيمة المبيعات النقدية بتاريخ 5/4 وقيمة رصيد المدينون بتاريخ 6/1

س5/ اختر الاجابة الصحيحة لستة من الفقرات التالية مبينا سبب اختيارك باسلوب علمي. -

1- تعتبر الخصوم والمصروفات من الحسابات.

أ- ذات الطبيعة المدينة ب- ذات الطبيعة المدينة والدائنة على الترتيب ج- ذات الطبيعة الدائنة

د- ذات الطبيعة الدائنة والمدينة على الترتيب هـ - لاشيئ مما سبق

2- ردت الشركة بضاعة بمبلغ 400000 دينار كانت قد اشترتها بالاجل فان الطرف الدائن بالقيد هو؟؟

أ- 400000 مدينون ب- 400000 مردودات مشتريات ج- 400000 داننون د- 400000 مردودات مبيعات

3- تم بيع بضاعة بمبلغ 6000000 دينار وبخصم تجاري 5% وشروط دفع 10/4 ، 20/2 ، ن/30 بتاريخ

2019/4/6 وبتاريخ 4/10 سدد المدين نصف المستحق نقدا وبهذا فان الخصم المكتسب هو

أ- 114000 دينار . ب- 120000 دينار ج- 114500 دينار د- لاشيئ مما يذكر

4- اقترضت الشركة مبلغ 10000000 دينار بفائدة بسيطة 6% تدفع نهاية السنة بتاريخ 2019/ 7/1 وبتاريخ

12/31 من نفس السنة تم سداد نصف القرض والفائدة وبهذا فان الجانب المدين من قيد السداد هو؟؟

أ- القرض 10000000 والفائدة 600000 ب- القرض 10000000 والفائدة 300000 دينار

ج- القرض 5000000 والفائدة 300000 دينار د- القرض 5000000 والفائدة 1500000 دينار

5- اذا ظهرت حقوق الملكية لاحدى الشركات في قائمة المركز المالي في 2016/12/31 (10000000 دينار) وهي

تعادل خمس مجموع الاصول وهذا يعني ان قيمة اصول الشركة هي.

أ- 4000000 دينار ب- 6000000 دينار ج- 5000000 دينار د- لاشيئ مما يذكر.

مع التمنيات بالتوفيق

رئيس القسم

أ. م. د. الهام جعفر الشاوي

مدرسي المادة

أ. د. سهيل عبدالله التميمي

عميد الكلية

أ. د. عبد الحسين توفيق شبلبي



ملاحظة: الاجابة عن اربعة اسئلة فقط (لكل سؤال 12.5 درجات)

س1: اختر الاجابة الصحيحة بما يناسبها من الفقرات التالية:

1. حالة او وضع مستقبلي مرغوب تسعى المنظمة للوصول اليه.
 - أ. الهدف ب. التنظيم ج. الخطة د. لاشي مما ذكر.
 2. جميع الادوار الاتية هي ادوار تفاعلية للمدير ما عدا واحدة فقط هي:
 - أ. المفاوضات ب. ممثل المنظمة ج. القائد د. حلقة الوصل.
 3. جميع الاتي يمثل مكونات البيئة الخارجية العامة ما عدا واحدة فقط هي:
 - أ. الزبائن ب. القوى التكنولوجية ج. ظروف البيئة الطبيعية د. القوى الاقتصادية.
 4. اكدت البيروقراطية على مجموعة من المبادئ من بينها:
 - أ. تقسيم واضح للعمل ب. اللاشخصية في التعامل ج. فصل الادارة عن الملكية د. جميع ما ذكر.
 5. قدم فردريك تايلور الذي يعرف بـ (ابو الادارة) عدد من الاسهامات لتطوير الفكر الاداري تمثلت اهمها ب:
 - أ. اعداد قواعد علمية لكل وظيفة ب. ضرورة وجود وصف دقيق للوظائف ج. التدريب المستمر للعاملين د. جميع ما ذكر.

س2: صحح ما تحته خط فقط:

1. ارتبطت نظرية X ونظرية Y بمساهمات عالم النفس ابراهام ماسلو.
2. اكدت دراسة هوثورن في العلاقات الانسانية على ضرورة وجود قواعد واجراءات عمل رسمية مكتوبة بشكل واضح في المنظمات.
3. الفاعلية هي مقياس لحسن استغلال الموارد التي ترتبط بأهداف محددة والتي تركز على المدخلات.
4. المهنية تجميع وتحليل المعلومات لتقديم حلول مبدعة للمشكلات المختلفة التي تواجهها المنظمات.
5. مدراء الادارة الاشرافية هم المدراء المسؤولون عن تنفيذ الاستراتيجيات التي اقرها مجلس ادارة المنظمة.

س3: اجب عن الفرعين الآتيين:

أ. عدد فقط المبادئ الادارية الاربعة عشر لـ (هنري فايول)؟

ب. وضح من خلال الرسم التخطيطي بوصفه اساس الادارة؟

س4: عدد و اشرح المكونات التي تشتمل عليها البيئة الخاصة (بيئة المهمة) لمنظمات الاعمال؟


س5: ما المقصود بالمهارة؟ اذكر المهارات المطلوب من المدير أن يتقنها معززاً اجابتك بالأمثلة؟

مع تمنياتي لكم بالنجاح




العميد

ا.د. عبدالحسين توفيق شبلي



رئيس القسم

أ.م.د. الهام جعفر حميد



مدرسا المادة

م.م. محمد عبد الرضا فرج أ.م. رأفت عواد موسى

جامعة البصرة

كلية الإدارة والاقتصاد

قسم المحاسبة

الدراسات الصباحية والمسائية

أسئلة الامتحان

النهائي

الدور - الأول

الكورس الثاني

للعام الدراسي

٢٠٢٣/٢٠٢٤

المادة: اللغة العربية

المرحلة: الأولى

الوقت: ساعتان

التاريخ: ٢٢ / ٥ / ٢٠٢٤



ملاحظة: الإجابة عن جميع الأسئلة .

السؤال الأول / مثل لما يأتي في جملة تامة لخمس نقاط فقط : (١٠) درجات

- ١) مبتدأ يأتي مصدراً مؤولاً .
- ٢) خبر يأتي جملة فعلية .
- ٣) اسم (كان) يأتي ضميراً بارزاً .
- ٤) خبر (إن) يأتي شبه جملة .
- ٥) حرف مشبه بالفعل يفيد الترجي .
- ٦) فعل ناقص يفيد النفي .
- ٧) ألفاظ العقود في حالة جمع المؤنث السالم .

السؤال الثاني / أجب عن فرعين فيما يأتي : (٢٠) درجة

- أ- عدد أغراض الشعر العربي مع شرح موجز لكل غرض منها .
- ب- تكلم عن أثر القرآن الكريم في اللغة والأدب .
- ت- شاعر له قصيدة معروفة في مدح الإمام زين العابدين (ع) ، عرفه وبين مميزات شعره، واذكر له خمسة أبيات .

السؤال الثالث / أجب عن فرعين فيما يأتي : (٢٠) درجة

أ) ما الفرق بين الأعداد الآتية من حيث توافق أو اختلاف العدد مع المعدود مع ذكر الأمثلة :

١. الأعداد المركبة (١٣ - ١٩) .
٢. ألفاظ العقود من (٢٠ - ٩٠) .

ب) أذكر الفرق بين مما يأتي مع ذكر الأمثلة :

١. الجنس التام .
٢. الجنس غير التام .

ج) ما الصواب في الاخطاء اللغوية الواردة في أدناه ؟

- يعتبر السكان العامل الاساس في عملية التنمية الاقتصادية لما يلعبه من دور هام وحيوي في القيام بهذه العملية .

مع تمنياتي لكم بالنجاح

رئيس القسم

مدرس المادة

مدرس المادة

العميد



ملاحظة: الإجابة عن اربعة أسئلة فقط .. (لكل سؤال 12.5):

س ١ / اختر الإجابة الصحيحة: (لستة فقط)

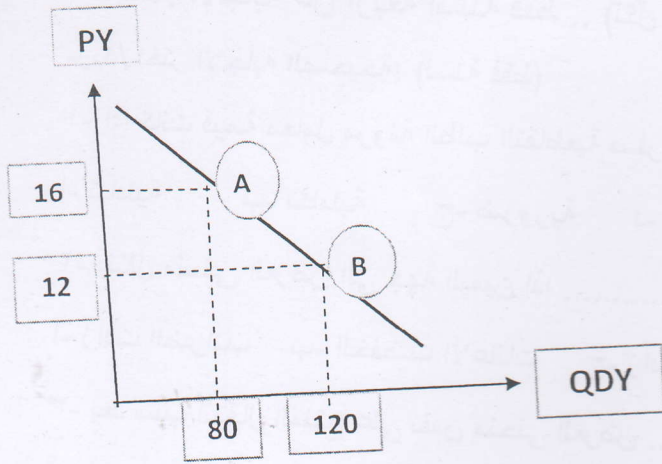
- ١- إذا كانت قيمة معامل مرونة الطلب التقاطعية صفر فإن السلعتين
أ- تبادلية ب- تكاملية ج- ضرورية د- مستقلة
- ٢- ينتقل منحنى العرض الى جهة اليمين اذا
أ- زادت الضرائب ب- انخفضت الاعانات ج- زادت اعداد المنتجين د- استخدام مستوى تكنولوجي اقل كفاءة
- ٣- يعد سبب انتقال المنتج على نفس منحنى العرض
أ- تغير العرض ب- تغير المستوى التكنولوجي ج- تغير غير سعري د- تغير سعري
- ٤- اذا كان منحنى العرض موازي تماما الى المحور العمودي فان نوعه يكون
أ- قليل المرونة ب- لا نهائي المرونة ج- عالي المرونة د- عديم المرونة
- ٥- اذا كانت الزيادة النسبيه بالسعر ضعف الزيادة النسبية بالكمية المعروضة فان العرض يكون
أ- عالي المرونة ب- تام المرونة ج- عديم المرونة د- قليل المرونة
- ٦- اذا كانت اشارة قيمة معامل مرونة الطلب التقاطعية سالبة فان السلعتين
أ- ضرورية ب- اعتيادية كمالية ج- بديلة د- تكاملية
- ٧- كلما توفرت بدائل قريبة للسلعه تكون المرونة السعريه للطلب
أ - منخفضة ب- ثابتة ج- مرتفعة د- جميع ما سبق
- ٨- في السلع الرديئة تصبح مرونة الطلب الداخليه
أ- موجبة اكبر من ١ ب- موجبة اقل من ١ ج- مساوية للـ ١ الصحيح د- سالبة

س ٢ / اجب عن ما يأتي:

- أ- اذا علمت ان مرونة العرض السعريه للسلعة X تساوي (3) فما هي نسبة الزيادة في السعر اللازم لزيادة الكمية المعروضة (45%) ؟
- ب- اذا كانت مرونة الطلب الداخليه للسلعة X تساوي (0.5) فما هي قيمة التغير النسبي الحاصل في دخل المستهلك اللازم لزيادة الكمية المطلوبة (10%) ؟
- ج- ان التغير غير السعري (التغير بالطلب) يمثل احد حالات التغير لان انتقال المستهلك على منحنى الطلب وضح ذلك مع الرسم.

س٣/ قارن بين الطلب والعرض من حيث القانون ونوع العلاقة ومن حيث جدول ومنحنى الطلب والعرض، ثم اذكر الصيغة الرياضية لاحتساب مرونة النقطة لكل من مرونة الطلب السعرية ومرونة العرض السعرية.

س٤/ افترض انه لديك الشكل البياني التالي:



المطلوب:

- 1- استخراج جدول الطلب للسلعة (Y).
- 2- اوجد قيمة معامل مرونة الطلب السعرية للنقطة من A الى B.
- 3- احسب قيمة معامل مرونة الطلب السعرية لمتوسط النقطتين (مرونة القوس) من A الى B.
- 4- حدد نوع مرونة الطلب السعرية المستخرجة.

س٥/ لديك الجدول التالي:

السلعة	النقطة A		النقطة B	
	السعر (P)	الكمية المطلوبة QD	P	QD
X	20	30	40	20
Y	10	40	10	40

المطلوب:

1. احسب قيمة معامل مرونة الطلب التقاطعية لسلعة X و Y.
2. حدد نوع العلاقة بين السلعتين X و Y.

مع تمنياتنا لكم بالنجاح والتوفيق

رئيس قسم المحاسبة

أساتذة المادة

أ.م.د. الهام جعفر حميد

أ.م. حسين علي

م.م. أديان فلاح

م.م. ايمن رعد

المادة: رياضيات
المرحلة: الأولى
الوقت: ساعتين
التاريخ: 20/5/2024



أسئلة الامتحانات النهائية
الفصل الثاني
للعام الدراسي
2024/2023



جامعة البصرة
كلية الإدارة والاقتصاد
قسم المحاسبة
الدراسة الصباحية

ملاحظة: الإجابة عن أربعة أسئلة فقط لكل سؤال (12.5 درجة)

س1: إذا كانت $A = \begin{bmatrix} 2 & -1 & 2 \\ 5 & 0 & -2 \\ 0 & 3 & 1 \end{bmatrix}$, $B = \begin{bmatrix} 1 & 2 & -5 \\ 3 & 1 & -3 \\ -4 & 2 & 7 \end{bmatrix}$

1. $2A + A$
2. $A + AB$

س2: اجب عن كلا الفرعين:

1. جد الغاية باستخدام (قاعدة لوبيتال) للدوال التالية:

1. $\lim_{x \rightarrow 3} \frac{(x^2+x-12)^3}{x-3}$

2. $\lim_{x \rightarrow -1} \frac{x^2+4x+3}{x+1}$

2. جد الغاية باستخدام طرق التبسيط للدوال التالية:

1. $\lim_{x \rightarrow 3} \frac{\sqrt{x+1} - 2}{x-3}$

2. $\lim_{x \rightarrow 4} \frac{x^3-64}{x-4}$

س3: اجب عن كلا الفرعين:

1. إذا كانت $(u = x^2, y = \sqrt{u})$ جد $\frac{dy}{dx}$

2. إذا كانت $(t = \sqrt{2x+1}, y = \frac{t^2}{t^2+1})$ جد $\frac{dy}{dx}$

س4: جد المشتقة لثلاث من الدوال التالية :

1. $y = (5 - x^2)^4 + \sqrt{x^2 + 3x}$

2. $y = \frac{1+\sqrt{x}}{1-\sqrt{x}}$

3. $y = \left(\frac{1+3x}{3x}\right)(3 - x)$

4. $y = (x^2 + 2)^5(\sqrt{x^3 - x})$


س5: اذا كانت $y = \frac{1}{x+2}$ جد

1. $f(0), f(1), f(2), f(-1), f(-2)$

2. جد D_f, R_f


3. ارسم مخطط الدالة $y = \frac{1}{x+2}$


مع تمنياتنا لكم بالنجاح


م.م. تبارك فاسم إبراهيم

مدرسي المادة


م. محمد موسى محسن


عميد الكلية


رئيس القسم

أ.د. عبد الحسين توفيق شبلي

أ.م. د. الهام جعفر الشاوي

المادة: حاسبات I
المرحلة: الأولى
الوقت: ساعتان
التاريخ: 2024/7/2



أسئلة امتحان الكورس الأول
الدور الثاني
للعام الدراسي
2023/2022



جامعة البصرة
كلية الإدارة والاقتصاد
قسم المحاسبة
الدراسات الصباحية والمسائية

ملاحظة: الإجابة عن أربعة أسئلة فقط. (لكل سؤال 12.5 درجة)

س1: املأ الفراغات التالية بما يناسبها:

1. _____ هو برنامج يمكنك من انشاء وتحرير وتنسيق وطباعة وثائق من النص والرسومات.
2. _____ وهي المكونات المادية الفعلية لجهاز الحاسوب التي يمكن مشاهدتها ولمسها.
3. يتم قياس سرعة وحدة المعالجة المركزية CPU بـ _____ و _____.
4. نستخدم الاختصار _____ من لوحة المفاتيح لنسخ ملف او نص داخل الملف او المستند.
5. نستخدم الاختصار _____ لتبديل لغة الادخال من الإنكليزية الى العربية او العكس.

س2: اختر الإجابة الصحيحة لكل مما يأتي:

1. تعتبر لوحة المفاتيح من وحدات:
أ. الاخراج ب. الادخال ج. ادخال واخراج د. لا شيء مما سبق
2. البرامج التي تستخدم في إيجاد حلول المسائل الرياضية وتمثيل البيانات الإحصائية هي:
أ. معالج النصوص ب. الجداول الالكترونية ج. قواعد البيانات د. العروض التقديمية
3. من مكونات وحدة المعالجة المركزية (CPU) ما يلي:
أ. وحدة التحكم ب. الحساب والمنطق ج. المسجلات د. جميع ما ذكر
4. في برنامج Microsoft Word، للتراجع عن اخر خطوة او تغيير قمنا بإجرائه على المستند نستخدم الاختصار:
أ. CTRL + C ب. CTRL + V ج. CTRL + S د. CTRL + Z
5. في برنامج Microsoft Word، لقص نص معين نستخدم الاختصار:
أ. CTRL + C ب. CTRL + X ج. CTRL + B د. CTRL + Z

س3: اجب بكلمة صح او خطأ

1. يتم استخدام ذاكرة الوصول العشوائي (RAM) لتخزين البيانات بصورة مؤقتة قبل معالجتها من قبل وحدة المعالجة المركزية.
2. توجد اشكال عديدة للحواسيب الرقمية مصنفة حسب سرعتها وكفاءتها الى حواسيب رقمية وحواسيب غير رقمية.
3. من خلال الضغط على (Ctrl + F4) من لوحة المفاتيح يتم فتح برنامج Microsoft Word.
4. في برنامج Microsoft Word يمكن تغيير اتجاه الصفحة من الافقي الى العمودي او العكس من خلال قائمة تخطيط الصفحة.
5. في برنامج Microsoft Word يمكن ادراج الجداول والاشكال المختلفة من خلال قائمة تصميم.


س4: اُجب عن الاتي:

1. كيف نقوم بإدراج ملف Word جديد (New)؟
2. ما هي طرق اغلاق الملفات المفتوحة ضمن برنامج Microsoft Word؟

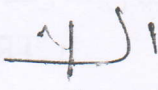
س5: اشرح بشكل موجز الأوامر التالية:




مع تمنياتنا لكم بالتوفيق والنجاح


العميد

أ. د عبدالحسن توفيق شبلي


رئيس القسم

أ. م. د الهام جعفر الشاوي


مدرسي المادة

م. م سمير اسماعيل م. م تبارك قاسم



ملاحظة : الاجابة عن خمسة اسئلة فقط - لكل سؤال 10 درجات

س1: أ) اجب بصح او خطأ و صحح الخطأ ان وجد لكل مما يأتي :

- 1- يقسم علم الإحصاء الى الإحصاء الوصفي والإحصاء الاستدلالي .
- 2- يعتبر المجتمع جزءا من العينة .
- 3- المتغيرات الوصفية هي المتغيرات التي تكون مفرداتها قابلة للقياس بالأرقام .
- 4- تقسم المتغيرات الى نوعين مستمرة وغير مستمرة (متقطعة).
- 5- المجتمع المحدود هو المجتمع الذي من الصعب او المستحيل حصر مفرداته .

س2 : اختر الاجابة الصحيحة لكل مما يلي :

- 1- مجموع القيم التي وسطها الحسابي (4) وعدد بياناتها (10) هو:
a- (25) b- (0.4) c- (40) d- (غير ذلك)
- 2- المنوال للبيانات التالية : 40 ; 50 ; 60 ; 90 ; 50
a- (50) b- (40) c- (90) d- (غير ذلك)
- 3- الوسط الحسابي للبيانات 50 ; 80 ; 90 ; 60
a- (70) b- (60) c- (75) d- (غير ذلك)
- 4- الوسيط للبيانات التالية : 8 ; 2 ; 6 ; 4 ; 2
a- (2) b- (4) c- (6) d- (غير ذلك)
- 5- اذا علمت ان قيمة الانحراف المعياري هي (9) فان قيمة التباين هي:
a- (3) b- (81) c- (18) d- (غير ذلك)

س3: للجدول التكراري التالي احسب الوسيط علما ان البيانات مستمرة

الاجر الاسبوعي	5-10	10-15	15-20	20-25	25-30
عدد العمال	10	40	70	50	30

يتبع لطفا



University of Basrah
College of Administration & Economics
Department of Accounting
Second Course Exam-Morning & Evening Studies
(Second Attempt)
2023-2024



Subject: English **Stage:** First **Time :** 2 hours **Date :** 7/13

Note: Answer Five questions only (10 degrees for each one).

Q1. From the story of Babur Ali, Choose the correct answer form the choice from each question:

1. How old is Babour Ali?

- a.14 b.16 c.18

2. How far is Babur's school from his village?

- a.1 miles c.2 mile c.3 miles

3. What time does Babur start his teaching classes in the evening?

- a.5 o'clock b.6 o'clock c.7 o'clock

4. How many students are there at Babur's school now?

- a.300 b.500 c.650

5. How many teachers work at Babur's school?

- a.5 b.8 c.10

Q2. Complete the sentences with Adverbs of frequency:


1. The sun rises from the East.
2. I carry my cellphone with my right hand.
3. I eaten my lunch in the house with my family.
4. We go to college for study on public holiday's.
5. I buy the fruits and vegetables from the market.

Q3. What time is it, Write the number:

1. It's seven o'clock.
2. It's quarter past nine.
3. It's five to five.
4. It's twenty-five to ten
5. It's two to two.



University of Basrah
College of Administration & Economics
Department of Accounting
Second Course Exam-Morning & Evening Studies
(Second Attempt)
2023-2024



Subject: English Stage: First Time : 2 hours Date : 7 /13

Q4. Choose the correct form to complete the sentences below:

1. Rio and Ira watched Avengers Endgame.
2. The tree grown very big.
3. After Alex...to work, Jonathan to school.
4. They'll have enough money to comfortably.
5. He his friends to call him Hank.

Word bank: live, has, goes, have, likes.


Q5. Choose The Right Possessive Adjective (his-her-its-my-your-our-their):

1. Ann and Nadia go to a high school little brother goes to a primary school.
2. Alan has a van van is very old.
3. We go to a high school high school is fantastic.
4. I like singing mother sings with me.
5. François and Alain are French..... family is from France.

Q6. Read the following sentences given below and identify the type of the present tense:

1. I have finished all my chores.
2. It rains almost every day in October.
3. My uncle is arriving today.
4. He has hurt his knee.
5. The workers have been building the tower for several months.

Best Wishes


Lecturer

Dr. Amjad S. Abdulali



Head of Department

Dr. Elham Al Shawi



جمهورية العراق
وزارة التعليم العالي والبحث العلمي
جامعة البصرة
كلية الإدارة والاقتصاد/ قسم المحاسبة
الدور الثالث



أسئلة الأمتحان النهائي للعام الدراسي 2023 - 2024
المادة : الرياضيات المرحلة : الاولى التاريخ / 7 / 2024 الزمن : ساعتان

ملاحظة: الاجابة عن اربعة اسئلة ولكل سؤال 12:5 درجة توزع بالتساوي

س 1/ جد المشتقة (Y') لكل من الدوال التالية :

$$Y = \frac{\sqrt{x+1}}{\sqrt{x^2+1}}$$

$$Y = (4 - x^2)\sqrt{2x^2 - 4}$$

$$Y = x^2 - (4x^2 - 7x^3)^{-6}$$

س 2/ جد الغاية لكل من الدوال التالية:

$$Y = \frac{\sqrt{x+1} - \sqrt{2}}{1-x} \text{ عندما } x \text{ تقترب من } 1$$

$$Y = \frac{x^2 + 4x + 3}{x^2 - 3x + 2} \text{ عندما } x \text{ تقترب من } -1$$

$$Y = \frac{x^2 + 4x + 3 + x}{x^7 - 3x + 2x - 1} \text{ عندما } x \text{ تقترب من } \infty$$

س 3/ أ- اذا علمت ان :

$$B = \begin{pmatrix} -2 & 5 & 3 \end{pmatrix}, A = \begin{pmatrix} 2 \\ -1 \\ 3 \end{pmatrix}$$

جد ناتج : BA

ب- لتكن المصفوفة A مصفوفة غير مربعة وكما في ادناه:

$$A = \begin{pmatrix} 2 & 0 \\ 0 & 1 \\ 1 & 0 \end{pmatrix} \text{ المطلوب هو:}$$

1- ايجاد AD حيث ان D هي مدور المصفوفة A

2- ايجاد المصفوفة F حيث ان $F = A + D^T$

س4/ لتكن A ، B مصفوفتان مربعتان من الدرجة 2 ،

$$\text{جد : } I^2 + 2B + A^2$$

$$\text{اذا علمت ان } A = \begin{pmatrix} 2 & 1 \\ 1 & 0 \end{pmatrix}, B = \begin{pmatrix} -3 & -1 \\ -1 & 0 \end{pmatrix}$$

س5/أ- اوجد المصفوفة A اذا علمت ان:


$$A + \begin{pmatrix} -2 & -4 & 0 \\ 4 & 2 & 8 \\ 9 & 2 & 4 \end{pmatrix} = \begin{pmatrix} -1 & -4 & 0 \\ 4 & 3 & 8 \\ 9 & 2 & 5 \end{pmatrix}$$

ب- استخدم قاعدة السلسلة لاجاد المشتقة $\left(\frac{dy}{dt}\right)$ بحيث ان:

$$Y = 6x^2 - 2x$$

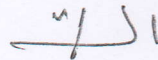
$$X = 4t$$

دعائي لكم بالنجاح والتوفيق



أ.د. عبدالحسين توفيق شبلي

العميد



أ.م.د. الهام جعفر الشاوي

رئيس القسم




م. محمد موسى محسن

مدرس المادة

University of Basra

College of Economic and Administration


Accounting Department



Final-Exam

2023-2024

Second semester



SUB: Reading

Class: first

Date: / /2024

Q1/ Choose the correct answer

(20 mark)

1-Which of the following will cause owner equity to increase (Expenses , Owners Draws , Revenue)

2- The accounting Equation should remain in Balance because every transaction effects How many accounts

(only one , only two , two or more)

3- the company purchases Equipment with cash

Assets	increase	Decrease	No Effect
Liabilities	increase	Decrease	No Effect
Owner Equity	increase	Decrease	No Effect

4- the company purchases land by paying half in cash and signing a Not payable for the other half

Assets	increase	Decrease	No Effect
Liabilities	increase	Decrease	No Effect
Owner Equity	increase	Decrease	No Effect

5- the Owners contributes his personal truck to business.

Assets	increase	Decrease	No Effect
Liabilities	increase	Decrease	No Effect
Owner Equity	increase	Decrease	No Effect

6- Ali company paid ID 150000 (50000 cash and 100000 as A/p to the supplies the entry will be

From\ A\P 150000	From\A\P 150000	From\ A\R 150000
To\ cash 50000	To\ cash 150000	To\ cash 50000
N\P 100000	-----	N\R 100000

7- X company paid employees' salaries

Assets	increase	Decrease	No Effect
Liabilities	increase	Decrease	No Effect
Owner Equity	increase	Decrease	No Effect

8- X company collected 155000 from customers

Assets	increase	Decrease	No Effect
Liabilities	increase	Decrease	No Effect
Owner Equity	increase	Decrease	No Effect

9- X company paid cash dividends

Assets	increase	Decrease	No Effect
Liabilities	increase	Decrease	No Effect
Owner Equity	increase	Decrease	No Effect

10- X company provide services cash at ID60000

Assets	increase	Decrease	No Effect
Liabilities	increase	Decrease	No Effect
Owner Equity	increase	Decrease	No Effect

Q2\Answer with True or False for the following

(10 marks)

- 1- liabilities of company would include (N\P)
- 2- External users of financial statement include (Lender, Government , Investors)
- 3- The income statement is the output of Accounting
- 4- The Matching is one of Accounting Principles
- 5- Ali A\C is defined as personal accounts
- 6- Intangible Accounts are Classify as Real Accounts
- 7- Inputs Accounting are business transactions
- 8- Natural Account is classify as NOMINAL A\C
- 9- cost accountant would be considered as Internal user of Accounting Data
- 10- Accounting Communicates financial information about a business enterprise to both internal and External

Q3\\ Draw the Flowchart of Accounting as system

(10 marks)

Q4\\ The ledger accounts of the Al Forat at June 30 ,2022 are shown below : (10 marks)

Name of account	Amount
Accounts Payable	6,100
Accounts Receivable	1,050
Building	51,400
Common stock	63,100
Cash	12,000
Exercise Equipment	18,900
Weight Equipment	22,000
Notes Payable	49,000
Office Supplies	350
Office Equipment	2,000
Dividends	10,500

Instructions

Prepare a trail balance with the ledger accounts arranged in the proper financial statement order include the appropriate heading

Q 5\\ Journalize the following' transactions in a Al Rahman books for the month July 2015(Amount in ID 000)

July 1.purchases merchandise for ID1000000 on credit from Yousif Company.

3 Sold merchandise on account to Al Morge company for D400000 with trade discount 5% and terms 2/10 n/30.

7 Returned merchandise worth ID100000 from the purchases on July 7.

8 Sold merchandise to Al Madena company for ID500000 and paid transportation for this merchandise worth

ID50000 add this amount to the invoice.

9 Al Madena Company returned damage merchandise worth ID100000

10 Received all amount from al Morage Co.

12 paid all amount to Al Yousief Company cash.

18 purchases merchandise on account from al Nahreen Company for ID1500000 with trade discount 10% and terms 2/10, N/30.

20 Returned damage merchandise to al Nahreen company For ID350000.


25 Al Madena company paid all amount cash.

27 purchases merchandise for ID250000 cash.

28 paid all amount to Al Nahren company cash.

30 sold merchandise on account to Al Njoom Company for ID750000

(10 marks)


Dean

Dr. Abdul Hussein Tewfik


Head of Dep. Lecturer

Dr. Elham jaafer Hamid

Dr. Fatima jasim



Maraw Nbel

المادة: رياضيات

المرحلة: الأولى

الوقت: ساعتين

التاريخ: 20/5/2024



أسئلة الامتحان النهائي

الفصل الثاني

للعام الدراسي

2024/2023



جامعة البصرة

كلية الإدارة والاقتصاد

قسم المحاسبة

ملاحظة: الإجابة عن أربعة أسئلة فقط لكل سؤال (12.5 درجة)

س1: إذا كانت $y = x^2 + x + 1$ جد

1. $f(0), f(1), f(2), f(-1), f(-2)$.

2. جد D_f, R_f .

3. ارسم مخطط الدالة $y = x^2 + x + 1$.

س2: اجب عن احد الفرعين:

1. إذا كانت $\left(z = \frac{1}{x^2+1}, y = 3z^3 + 2 \right)$ جد $\frac{dy}{dx}$.

2. إذا كانت $\left(t = x^2 + 4, y = \sqrt{4t+1} \right)$ جد $\frac{dy}{dx}$.

س3: اجب عن كلا الفرعين:

1. جد الغاية باستخدام طرق التبسيط للدوال التالية:

1. $\lim_{x \rightarrow 3} \frac{x^3 + 2x^2 - 12x}{x^2 - 3x}$

2. $\lim_{x \rightarrow 0} \frac{\sqrt{x+1} - \sqrt{2}}{x}$

2. جد الغاية باستخدام (قاعدة لوبيتال) للدوال التالية:

1. $\lim_{x \rightarrow 2} \frac{(9+2x^2)^{\frac{5}{3}}}{x-2}$

2. $\lim_{x \rightarrow 0} \frac{\sqrt{x^4+3x^2}}{x^3+x}$

س4: اذا كانت $A = \begin{bmatrix} -2 & -4 \\ 3 & 1 \end{bmatrix}$, $B = \begin{bmatrix} 1 & 9 \\ 5 & 10 \end{bmatrix}$ جد:

1. $2A + 3B$

2. $BA - AB$

س5: جد المشتقة لثلاث من الدوال التالية :


1. $y = (x^2 + 1)^2 \left(\frac{1-3x}{3x+2} \right)$

2. $y = \frac{1-\sqrt{2x}}{1+\sqrt{x^2}}$


3. $y = (5 - 2x^4)^4 + \sqrt{x^3 + 3x}$


4. $y = (\sqrt{x^3 - 5})(x^2 + 2)^5$

مع تمنياتنا لكم بالنجاح



م.م. تبارك قاسم إبراهيم

مدرسي المادة


م. محمد موسى محسن


عميد الكلية

أ.د. عبد الحسين توفيق شبلي


رئيس القسم

أ.م. د الهام جعفر الشاوي

مادة: حقوق وديمقراطية
الوقت: ساعتين
التاريخ: / / 2024



امتحان النهائي / الفصل الاول
2024 - 2023
الدراسة الصباحية والمسائية

للية الادارة والاقتصاد
قسم المحاسبة

الاجابة عن خمسة أسئلة فقط (ولكل سؤال 10 درجات):

1س/ عرف خمسا مما يأتي:

1- مفهوم الانسان 2- الملكية الفكرية 3- الفساد 4- الفقر 5- الارهاب 6- الديمقراطية الغير مباشرة

2س/ عدد خصائص حقوق الانسان:

3س/ نص دستور العراق لعام 2005 على خمسة انواع من الحقوق من ضمنها الحقوق المدنية اشرحها بالتفصيل.

4س/ اولت الديانات والشرائع السماوية الانسان وحقوقه اهتماماً كبيراً، فحفلت كتبها المقدسة بحقوق وواجبات الانسان، مصدرها الله تعالى فهي ليست كالفلسفة الوضعية قابلة للتغير. ومن هذه الديانات الديانة اليهودية وضح ذلك.

5س/ تكلم عن فرعين فقط :

أ- افلاطون

ب- منظمة العفو الدولي

ج- اللجنة الدولية للصليب الاحمر

6س/ تكلم عن الضمانات في القوانين التي تمثل مجموعة قواعد التي تنظم سلوك الانسان ووظيفتها حماية حقوق الانسان وحفظ كيان المجتمع وهذه الضمانات عرفت بالضمانات القضائية في الوقت الحالي وهي نوعين.

رئيس القسم
أ.م.د الهام جعفر الشاوي

مدرسة المادة
م.م ابتهال محمد عبدالكريم

الأول الصباحي والمسائي

التاريخ: 2024/ 5/ 13

الوقت: ساعتين



أسئلة الامتحان النهائي
الفصل الثاني للعام الدراسي
2024/2023
الحاسبات الكورس الثاني



جامعة البصرة
كلية الإدارة والاقتصاد
قسم المحاسبة

ملاحظة : الإجابة عن أربعة أسئلة فقط لكل سؤال 12.5 درجة

س1/ أجب عن النقاط التالية بدقة ووضوح:

- 1-ماذا نقصد بشريط الصيغة؟
- 2-ماذا نقصد بالتنسيق النصوص للخلايا في Excel ؟
- 3-ماذا تعني أشرطة للبيانات لخلايا Excel ؟
- 4-ماذا نقصد بمراجع الخلايا والثوابت في مكونات الصيغ؟
- 5-ماذا نقصد بفرز البيانات باستخدام التصفية التلقائية؟

س 2// اجب بكلمة صح او خطأ عن العبارات التالية :

- 1- يمكن التنقل بين الخلايا في ورقة عمل Excel عن طريق مفتاح Tap.
- 2- لضبط اتجاه ورقة العمل من اليسار الى اليمين نختار تبويب الصفحة الرئيسية ومن ثم تنسيق.
- 3- يشير الرمز \$ الى تنسيق الأرقام بتنسيق العملة.
- 4- يمكن تنسيق القيم المحددة في مصنف Excel بالدينار العراقي من مربع حوار تنسيق خلايا.
- 5- في تطبيق Excel الشريط الذي يظهر فيه محتويات الخلية يسمى بشريط الصيغة.

س3/ أملأ الفراغات الآتية بما يناسبها:

- 1- لحذف الرسم البياني يتم تحديده ثم الضغط على مفتاح
- 2- للخروج من برنامج EXCEL من قائمة نختار
- 3- لحفظ ورقة العمل من قائمة ثم نختار
- 4- لتحديد ورقة العمل من قائمة نختار
- 5- لإدراج صف من قائمة نختار

س4/ أختَر الإجابة الصحيحة لكل مما يأتي:


- 1- تحتوى ورقة العمل على (256 صف - 256 عمود - غير محدد)
- 2- لأدراج صف أو عمود نفتح قائمة (file - insert - tools)
- 3- نستطيع حذف صف أو عمود من خلال قائمة (file - edite - format)
- 4- لضم قيمتين أو سلسلتها لإعطاء قيمة نصية متواصلة واحدة نستخدم (الفاصلة ،، ، علامة الضم&، مسافة)
- 5- عامل تشغيل النطاق الذي ينتج مرجعا واحدا لكافة الخلايا بين مرجعين(الفاصلة ،، ، الضم&، نقطتين شارحة :)

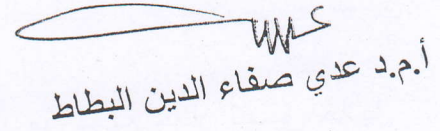
س15 اعطي الوظيفة المناسبة لكل دالة من الدوال الآتية:


الوظيفة	الدالة
	INT
	COUNT
	SIGN
	ROUNDDOWN
	TAN

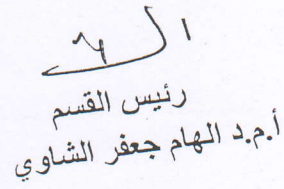
مع تمنياتي لكم بالنجاح

مدرسي المادة


م.م تبارك قاسم إبراهيم


أ.م.د عدي صفاء الدين البطاط


عميد الكلية
أ.د عبد الحسين توفيق شبلي


رئيس القسم
أ.م.د الهام جعفر الشاوي

المرحلة الثانية

ملاحظة / الاجابة عن اربعة اسئلة (لكل سؤال 12.5 درجة) :

- س1 / تم الحصول على البيانات التالية و التي تخص حركة البضاعة لإحدى الشركات التجارية خلال سنة 2020 :
1. مخزون اول المدة 1000 وحدة كلفة الوحدة 100 دينار.
 2. في 4/30 كانت المشتريات 2000 وحدة كلفة الوحدة 110 دينار.
 3. في 9/20 كانت المشتريات 1500 وحدة كلفة الوحدة 120 دينار.
 4. في 5/10 كانت المبيعات 2200 وحدة بسعر 150 دينار للوحدة.
 5. في 5/12 تم اعادة مبيعات بضاعة بلغت 100 وحدة.
 6. في 11/15 كانت المبيعات 1000 وحدة بسعر 160 دينار للوحدة.

المطلوب / اثبات قيود اليومية اللازمة لحركة البضاعة وفقاً لنظام الجرد المستمر وإعداد بطاقة استاذ المخازن علماً ان طريقة التسعير المستخدمة هي طريقة الوارد اولاً صادر اولاً (FIFO) وإن (كافة العمليات تمت بالآجل) ؟

س2 / في 2020/1/1 اشترت شركة ذي قار اصول و خصوم شركة المثني و التي قدرت قيمتها السوقية في تاريخ الشراء كما يلي :

المصرف 100000 دينار, المدينون 150000 دينار, المخزون 250000 دينار, صافي الموجودات الثابتة 400000 دينار, الدائون 150000 دينار.
فاذا علمت ان شركة ذي قار دفعت مبلغ 800000 دينار نقداً عن عملية الشراء و ان معدل ربح الصناعة الاعتيادي 10% في حين ان متوسط ارباح شركة المثني للسنوات السابقة 90000 دينار و ان معدل الخصم المناسب 25%.

المطلوب / تقدير قيمة شهرة المحل المتحققة من صفقة الشراء و تسجيل قيد الشراء باستخدام طريقة :

1- التقييم الشامل ؟

2- الدخل غير الاعتيادي ؟

س3 / بدأت شركة البصرة اعمالها التجارية في 2022/1/1 و خلال السنة حدثت العمليات التالية :

1. المبيعات الآجلة 800000 دينار تمكنت الشركة من تحصيل 30% منها نقداً.
2. اعدمت الشركة ديون بمبلغ 5000 دينار لعدم امكانية تحصيلها و تم تكوين مخصص للديون المشكوك في تحصيلها بنسبة 3% من رصيد المدينون.

و خلال سنة 2023 حدثت العمليات التالية :

1. المبيعات الآجلة 1300000 دينار.
2. المتحصلات النقدية من المدينين 1260000 دينار.
3. اعدمت ديون بمبلغ 20000 دينار.
4. تم تحصيل ديون سبق اعدامها بمبلغ 12000 دينار (8000 دينار تخص سنة 2023 و الباقي يخص سنة 2022).

المطلوب / تسجيل القيود المحاسبية اللازمة لسنة 2022 و سنة 2023 مع تصوير الميزانية الجزئية لكل سنة, علماً ان الشركة ترغب بالاستمرار بنفس سياستها بشأن تكوين المخصص للديون المشكوك في تحصيلها ؟

س4 / العمليات التالية تخص الموجودات الثابتة في شركة البصرة :

1. في 2020/10/1 اشترت الشركة (معدات و اثاث و سيارات) بمبلغ اجمالي مقداره 5000000 دينار نقداً و قدرت القيمة السوقية لهذه الموجودات كما يلي : 2400000 دينار, 1200000 دينار الاثاث, 2400000 دينار السيارات.

2. في 2020/10/1 اضافت الشركة خصائص اضافية الى السيارات كما قامت بصيغ هذه السيارات لكتابة اسم الشركة عليها بمبلغ اجمالي مقداره 400000 دينار لتدخل العمل الفعلي في 2021/1/1.

3. في 2020/11/1 انفقت الشركة المبالغ التالية لجعل المعدات جاهزة للاستخدام ابتداءً من 2021/1/1 : 300000 دينار مصاريف بناء قاعدة كونكريتية, 400000 دينار مصاريف تركيب, 300000 دينار مصاريف تشغيل تجريبي.

4. اعتمدت الشركة طريقة مجموع ارقام سنوات العمر الانتاجي لاحتساب قسط اندثار المعدات التي يبلغ عمرها الانتاجي 6 سنوات, و استخدمت مع الاثاث طريقة القسط الثابت الذي دخل الى العمل في 2020/10/1 و بعمر انتاجي 5 سنوات, اما بالنسبة للسيارات فقد استخدمت الشركة مجموع ارقام سنوات العمر الانتاجي في احتساب قسط اندثارها و التي يبلغ عمرها الانتاجي 5 سنوات.

5. في 2022/7/1 قامت الشركة ببيع السيارات مقابل مبلغ نقدي مقداره 1300000 دينار.

6. في 2023/1/1 قررت الشركة تغيير طريقة احتساب قسط اندثار المعدات الى طريقة القسط الثابت.

المطلوب/ إثبات المعالجات المحاسبية اللازمة في سجلات شركة البصرة للعمليات اعلاه علماً ان الشركة تستخدم الطريقة الغير مباشرة لتسجيل الاندثار ؟

س 5 / توفرت لديك المعلومات الاتية المستخرجة من سجلات شركة المسك التجارية في سنة 2020 :

1- في 2020/1/1 كان رصيد المدينون ؟ ورصيد مخصص الديون المشكوك في تحصيلها 37500 دينار .

2- بلغت المبيعات الآجلة خلال العام 4000000 دينار .

3- مردودات المبيعات الآجلة 60000 دينار .

4- المتحصلات النقدية من المدينون 2000000 دينار .

5- الديون المعدومة خلال السنة 62500 دينار توزع ما بين السنة الحالية والسنة السابقة بنسبة 2:3 على التوالي

6- الديون المعدومة المحصلة خلال السنة 30000 دينار توزع ما بين السنة الحالية والسنة السابقة بنسبة 2:3 على

التوالي.


7- ترغب ادارة الشركة بأن يكون مخصص الديون المشكوك في تحصيلها في نهاية كل سنة بنسبة 15% من رصيد


حساب المدينون آخر المدة .


المطلوب / 1- تسجيل قيود اليومية اللازمة الخاصة بسنة 2020 ؟


2- تسجيل قيد التسوية اللازم لسنة 2020 ؟

3- احتساب صافي المبيعات الآجلة ؟


م.م. ماهر اسماعيل بدران
استاذ المادة


أ.م. د منذر جبار داغر
استاذ المادة


أ.د عبدالحسين توفيق شبلي
العميد


أ.م.د الهام جعفر الشاوي
رئيس القسم

المادة: المالية العامة
الزمن: ساعتين
المرحلة: الثانية
(صباحي - مسائي)



أسئلة الامتحان النهائي
الكورس الثاني - الدور الاول
للعام ٢٠٢٣-٢٠٢٤



جامعة البصرة
كلية الإدارة والاقتصاد
قسم المحاسبة

ملاحظة: الإجابة عن اربعة اسئلة فقط (لكل سؤال ١٢,٥ درجة)

س١/ بين مفهوم (سته) مما يأتي:

- ١- الضرائب المباشرة.
- ٢- النفقات غير العادية.
- ٣- الموازنة العامة للدولة.
- ٤- الضرائب على التركات.
- ٥- الإعانات الاقتصادية.
- ٦- الحاجات الخاصة.
- ٧- المالية العامة المعوضة (التدخلية).
- ٨- القروض العامة.

س٢/ تعرف الرقابة بانها اهم مراحل دورة الموازنة ولها عدة اهداف وأنواع حسب الغرض من دراستها، وضح اهم هذه الأهداف وماهي أنواع الرقابة وضحها بالتفصيل.

س٣/ قارن بين كل مما يأتي:

أولاً: الفروقات بين الرسم والضريبة.
ثانياً: الدومين العام والدومين الخاص

س٤/ أولاً: ضع كلمة صح او خطأ امام العبارات التالية مع تصحيح الخطأ ان وجد:

- ١- هناك صعوبة في التمييز بين الزيادة في قيمة العقار الناتجة من تقدم المجتمع (تطور عمراني) و بين الزيادة الناتجة عن مجهود المالك .
- ٢- تفرض الضريبة على الزيادة الطارئة على راس المال عند حصول زيادة في قيمته.
- ٣- تحصل الدولة على القروض الداخلية من الاشخاص الطبيعيين المقيمين فوق اراضيها بغض النظر عن جنسياتهم.
- ٤- ان الاساس النقدي هو تحميل الحساب الختامي لأي سنة مالية بالنفقات التي دفعت فعلاً والايرادات التي قبضت فعلاً خلال تلك السنة.
- ٥- تندرج الاهداف المالية والاجتماعية تحت بند الدومين التجاري والصناعي التابع للدومين الخاص.
- ٦- تعد الصفة النقدية للرسم هي اتخاذ عيني وليس نقدي بالنسبة للإيرادات.

ثانياً/ تلجأ اغلب الدول وعندما تواجه زيادة في نفقاتها العامة لا تستطيع تغطيتها من مواردها المالية الاعتيادية الى موارد مالية غير اعتيادية ومن هذه الموارد هي القروض، اذكر اثنين من أنواع القروض العامة مع الشرح.

س ٥/ اختر الإجابة الصحيحة: (لستة فقط)


١. ضريبة الدخل هي احد أنواع:
أ- الضرائب المباشرة. ب- الضرائب غير المباشرة. ج- الضرائب على رأس المال. د- الضرائب على التركات.
٢. تندرج الموجودات والمطلوبات تحت بند:
أ- الميزانية العمومية ب- الموازنة العامة ج- الضرائب د- الاساس النقدي
٣. من الاسباب الظاهرية لزيادة النفقات العامة:
أ- انخفاض قيمة النقد. ب- اتساع إقليم الدولة وزيادة عدد السكان. ج- التغير في القواعد الأولية للحسابات الحكومية. د- كل مما سبق.
٤. حسب نظرية فان الدخل عبارة عن قوة شرائية نقدية متجددة تتدفق بصورة دورية خلال مدة زمنية محددة.
أ- التجدد ب- الاثراء ج- الدورية د- المنبع
٥. ان فقرة الرواتب التقاعدية تكون تحت بند:
أ- صور النفقات العامة ب- الاسباب الظاهرية لزيادة النفقات ج- التبويب الوظيفي د- الاجور والمرتببات
٦. يشمل الدومين العقاري على:
أ- ما تملكه الدولة من اسهم في محافظة الدولة. ب- ما تملكه الدولة من متنزهات ومتاحف وأماكن أثرية. ج- ما تملكه الدولة من المناجم والمحاجر (الدومين الاستخراجي). د- ما تملكه الدولة من مشاريع صناعية.
٧. هناك عدة معايير للفرقة بين الضرائب المباشرة والضرائب غير المباشرة منها:
أ- المعيار الإداري. ب- المعيار الاقتصادي. ج- معيار ثبات المادة الخاضعة للضريبة. د- كل مما سبق.

مع تمنياتنا لكم بالنجاح والتوفيق



عميد الكلية

أ.د عبد الحسين توفيق شبلي



رئيس قسم المحاسبة

أ.م.د الهام جعفر حميد



م.م. اديان فلاح

مدرسي المادة

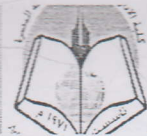
م.م. ايمان رعد



Note\ Answer four questions, with the first being among them

Q1. Multiple Choices. Choose the correct answer and show the computations if any (20 Marks).

1. If the company Paid \$200,000 cash for expenses that's will
 - a. Decrease Assets by \$200,000, decrease owner's equity by \$200,000.
 - b. Decrease Assets by \$200,000, decrease liabilities by \$200,000.
 - c. Increase Assets by \$200,000, decrease owner's equity by \$200,000.
 - d. Increase Assets by \$200,000 and increase Liabilities by \$200,000.
2. On July 1 the Fisher Shoe Store paid \$24,000 to Acme Realty for 6 months rent beginning July 1. Prepaid Rent was debited for the full amount. If financial statements are prepared on July 31, the adjusting entry to be made by the Fisher Shoe Store is.
 - a. debit Rent Expense, \$24,000; credit Prepaid Rent, \$24,000.
 - b. debit Prepaid Rent, \$24,000; credit Rent Expense, \$24,000.
 - c. debit Rent Expense, \$4,000; credit Prepaid Rent, \$4,000.
 - d. debit Prepaid Rent, \$4,000; credit Rent Expense, \$4,000.
- 3-The Harris Company purchased equipment for \$15,000 on December 1. It is estimated that annual depreciation on the computer will be \$3,000. If financial statements are to be prepared on December 31, the company should make the following adjusting entry.
 - a. debit Depreciation Expense, \$3,000; credit Accumulated Depreciation, \$3,000.
 - b. debit Depreciation Expense, \$250; credit Accumulated Depreciation, \$250.
 - c. debit Depreciation Expense, \$12,000; credit Accumulated Depreciation, \$12,000.
 - d. debit Equipment, \$15,000; credit Accumulated Depreciation, \$15,000.
- 4.A1-Salamy company purchases goods on account for \$6000, then
 - a. Assets and liabilities both decrease by \$6000. b. Stockholders' equity increases by \$6000.
 - c. Assets increase by \$6000 and liabilities decrease by \$6000. d. Assets and liabilities both increase by \$6000.
5. One of the following is not an asset: a. Inventory. b. Equipment. c. Building d. Notes Payable.
6. On November 1, Duane paid \$13,500 in advance for a year's rent. The November 30 adjusting entry for rent expense should include a
 - A. debit Rent Expense, \$13,500 B. debit Rent Expense, \$1,125
 - C. credit Prepaid Rent Expense, \$13,50 D. credit Cash, \$1,125
- 7- Assets of a company would not include
 - a. Accounts payable. b. Accounts receivable. c. Inventory. d. Cash



8-A credit sale of \$750 is made on June 13, terms 2/10, N/30. A return of \$50 is granted on June 16.

The amount received as payment in full on June 23 is:

- a. \$700. b. \$686. c. \$685. d. \$650

9-Al Alaa company purchased a computer for ID2,400 on December 1. It is estimated that annual depreciation on the computer will be ID480. If financial statements are to be prepared on December 31, the company should make the following adjusting entry:-

- a. Debit depreciation Expense, ID480; credit accumulated Depreciation ID480.
b. Debit depreciation Expense, ID40; credit accumulated Depreciation ID40,
c. Debit depreciation Expense ID1920; credit accumulated Depreciation ID1920 X
d. Debit office equipment, ID2400; credit accumulated Depreciation ID2400 X

① 13
2400
480

2920

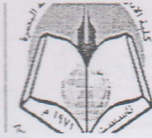
10-Company FF accumulates the following adjustment data at December 31.

Revenue of ID800 collected in advance has been earned. The adjusting entry :-

- a. Debit cash, ID 800; credit unearned revenue ID 800.
b. Debit revenue, ID 800 ; credit unearned revenue ID 800.
c. Debit unearned revenue ID 800; credit revenue ID 800.
d. Another answer

Q2\AT Sea Company a service company provide service to customer, prepare the journal entries for the transactions below. (10 Marks).

- a. purchased supplies cash for ID2000
b. paid wages to employee for the month for ID5000
c. Revenue from services performed during the month totaled ID9000.
d. a contract was signed with a newspaper for a ID250 advertisement but the amount not paid until next month.
e. purchased merchandise for ID12500 of this amount ID12000 paid and the balance expected to pay within 30 days.
f. paid ID500 cash for net expenses



- g. provide service for ID7500 of this amount received ID5000 and the balance will be received within 10 days.
- h. purchased equipment for ID3000 cash.
- i. paid rent for the month worth ID2000.
- j. provide services for ID8000 cash
- b. paid wages to employee for the month for ID5000

Q3 (Amount in 000) When the accountant reviews the records he discovers the wrong entries below:

(10 Marks).

1. An amount of ID325 recorded as ID532 for purchases merchandise on account
2. received note receivable from customer debited to note payable for ID500.
3. the honors withdraw cash for ID200 debited to cash and credited to withdraw
4. sold merchandise for ID1000 on credit with trade discount 10% on account debited to cash discount for ID100 and ID900 account receivable and credited to sales for ID1000.
5. sold machines for ID1800 cash credited to sales.
6. sales returns for ID100 from customer who purchased the merchandise on account credited to sales and debited to cash.
7. received cash from customer for ID400 credited to account payable.
8. purchases equipment cash for 5000 debited to equipment for ID500 and credited to cash ID500
9. purchased land for ID20000 cash debited to purchases account.
10. paid wages to employee for ID3000 has been posted twice to wages expenses.

Required: pass journal entries to rectify the above errors using short method.

Q4 Prepare an income statement, a statement of retained earnings, and a balance sheet for the Norma's practice of Ali Husein, from the items listed below for the month of September, 2006. (Amount in 000).
(10 Marks).

Retained Earnings	ID40,000
Common Stock	2,000
Account payable	7,000
Equipment	30,000
Service revenue	25,000

1359



Dividends	6,000
Norma' s supplies expense	3,500
Cash	8,000
Utilities expense	700
Dental supplies	2800
Salaries expense	7000
Accounts receivable	14000
Rent expense	2000

206
35


Q5\ (All amount in million) Al star company show a balance of ID 7699 and balance per bank of ID 10240 On June 30, suppose furtherer that by applying the procedures described above we find the following differences : (10 Marks).


- a- cheque No 5483 for ID 1900 dated June 27 deposited on June 30 has not been collected.
- b- Cheques issued and recorded by al star company but not yet presented to the bank for payment are as follows:


Cheques No	date	Amount
2108	25\5	1291
2110	29\5	617
2113	1\6	407
2116	4\6	96
2118	11\6	1098

- c-credit advice states that the bank collected a Note receivable for ID 900 together with interest ID of 12.
- d- Cheque No 2112 for 5481 was recorded in the company's record in correctly as ID 5544
- e- credit advice states that the bank credited interest of ID87.
- f-A debit advice states that the bank Levied quarterly service charge of ID130

Require. prepare the bank reconciliation for Al star company on June 30,


A.P.D Elham .J. Hameed


P.D Fatima j. Mohmmmed


A.L. Hanan S. Mahdi

س ٤:- علاج الحالات التالية بقيود محاسبية

- ١- في ٢٠٢٠/٦/١ اتخذت الوحدة المحاسبية الاجراء اللازم لنقل الصك المرقم ٩٠٥١٧ الصادر عنها بمبلغ ١٥٠٠٠٠٠٠ دينار والمسحوب بأمر شركة النهريين التجارية حيث مضت ٦ اشهر ولم يظهر في كشوفات البنك.
- ٢- في ٢٠٢٠/٨/٣١ لدى جرد الموجود النقدي للصندوق ظهر ان الموجود الفعلي (٢٠ مليون دينار) في حين ان مجموع الإيرادات المستلمة بموجب سجل يومية الصندوق (١٥ مليون دينار) وتم معالجة الفرق عند إيداع الموجود النقدي لدى البنك .
- ٣- في ٢٠٢٠/٩/٢٠ تحقق بذمة احد المكلفين لحساب ضريبة الدخل مبلغ ٥٥٠٠٠٠٠٠ دينار . وعند تصفية الحساب مع هيئة الضرائب سدد مبلغ ٢٥٠٠٠٠٠٠ دينار فقط حيث سبق و سدد امانات للحساب أعلاه .
- ٤- ٢٠٢٠/١٠/١ بالنظر لمرور المدة القانونية على الامانات المدرجة ادناه ، اتخذت الوحدة ما يلزم لمعالجة الحالة وفق احكام القانون ٥٠٠٠٠٠٠ دينار امانات الكمارك السيد يوسف و ٦٥٠٠٠٠٠ دينار امانات اولية للمزيدات شركة النبا
- ٥- ٢٠٢٠/١٢/١ راجعت شركة النهريين لسحب الصك المرقم ٩٠٥١٧ المذكور في الفقرة (١) اعلاه فقامت الوحدة المحاسبية بالاجراء اللازم

س ٥:- ١- في ٢٠١٤/١/٥ صدر أمر اداري في كلية الادارة و الاقتصاد لتشكيل لجنة صيانة و المتكونة من الاعضاء (جعفر احمد ، طف ثامر ، ناجي حبيب)

- ٢- في ٢٠١٤/١/١٠ استلمت اللجنة سلفة الصيانة بمبلغ ٨٠٠٠٠٠٠٠ دينار بموجب الصك المرقم ٥٥٨٧٩ و قدمت المستندات الآتية
- ٢/٢٠ مبلغ ٤٢٥٠٠٠٠٠ دينار لصيانة اجهزة التبريد و مبلغ ٣٧٥٠٠٠٠٠ دينار لصيانة الاثاث و تم تعزيز مبلغ السلفة بصك بتاريخ ٣/١
- في ٣/٢٩ مبلغ ٢٥٠٠٠٠٠٠ دينار لصيانة السيارات و ٥٠٠٠٠٠٠٠ دينار لصيانة المباني و تم تعزيز مبلغ السلفة بصك بتاريخ ٤/١٠
- في ١٢/٢٦ مبلغ ٢٠٠٠٠٠٠٠ دينار لصيانة التأسيسات الكهربائية و ٢٠٠٠٠٠٠٠ دينار لصيانة التأسيسات المائية و ١٠٠٠٠٠٠٠٠ دينار لصيانة الحدائق في الكلية و تم تسوية السلفة في نفس التاريخ .

دليل GFS : بنك الإيرادات المغلق ٣٢١٢٢٣١ ، بنك النفقات الاعتيادي ٣٢١٢٢١١ ، بنك النفقات الاستثمارية ٣٢١٢٢١٢ ، بنك الامانات ٣٢١٢٢٤١ ، نقد في الصندوق ٣٢١٢١١١ ، إيرادات رسوم الطابع ١٤٢٢١١ ، تأمينات الاستقطاعات النقدية ٩٩١٢٣٥٣١ ، التأمينات النظامية ٩٩١٢٣٥٣١ ، التأمينات الأولية ٩٩١٢٣٥١١ ، سلف المقاولين / سلف برهن المكين والمعدات ٣٢١٨١٥١ ، سلف الافراد العاملين / سلف الايفاد ٣٢١٨١٢٢ ، سلف الافراد العاملين / سلف السفر ٣٢١٨١٢١ ، سلف الاعتمادات / سلف الاعتمادات المستندية ٣٢١٨١٤١ ، الاثاث ٣١١١٢٢١ ، امانات المستشفيات باسم المريض ٣٣١٨١٩١ ، امانات معالجة الزيادة في الصندوق ٣٣١٨٢٩١ ، امانات الضرائب ٣٣١٨١١١ ، امانات المحاكم ٣٣١٨٢١١ ، نفقات الانتقال / مخصصات ليلية ٢٢٢٢١ ، نفقات الانتقال / مسانط نقل ٢٢٢١٢٢ ، نفقات الانتقال / نفقات السكن ٢٢٢١٢٣ ، مباني وإنشاءات ٣١١١١٢١ ، إيرادات الخدمات الصحية ١٢٨١ ، إيرادات ضريبة الدخل ١١١١٢٢

مع تمنياتنا لكم بالنجاح والتوفيق

العميد

أ.د. عبدالحسين توفيق شبلي

رئيس القسم

أ.م.د. الهام جعفر الشاوي

مدرسي المادة

م.م. مروه نبيل ، م.م. إيمان كاظم

س ٤:- علاج الحالات التالية بقيود محاسبية


- ١- في ٢٠٢٠/٦/١ اتخذت الوحدة المحاسبية الاجراء اللازم لنقل الصك المرقم ٩٠٥١٧ الصادر عنها بمبلغ ١٥٠٠٠٠٠٠ دينار والمسحوب بأمر شركة النهريين التجارية حيث مضت ٦ اشهر ولم يظهر في كشوفات البنك.
- ٢- في ٢٠٢٠/٨/٣١ لدى جرد الموجود النقدي للصندوق ظهر ان الموجود الفعلي (٢٠ مليون دينار) في حين ان مجموع الإيرادات المستلمة بموجب سجل يومية الصندوق (١٥ مليون دينار) وتم معالجة الفرق عند إيداع الموجود النقدي لدى البنك .
- ٣- في ٢٠٢٠/٩/٢٠ تحقق بذمة احد المكلفين لحساب ضريبة الدخل مبلغ ٥٥٠٠٠٠٠٠ دينار . وعند تصفية الحساب مع هيئة الضرائب سدد مبلغ ٢٥٠٠٠٠٠٠ دينار فقط حيث سبق و سدد امانات للحساب أعلاه .
- ٤- ٢٠٢٠/١٠/١ بالنظر لمرور المدة القانونية على الامانات المدرجة ادناه ، اتخذت الوحدة ما يلزم لمعالجة الحالة وفق احكام القانون ٥٠٠٠٠٠٠ دينار امانات الكمارك السيد يوسف و ٦٥٠٠٠٠٠ دينار امانات اولية للمزيدات شركة النبا
- ٥- ٢٠٢٠/١٢/١ راجعت شركة النهريين لسحب الصك المرقم ٩٠٥١٧ المذكور في الفقرة (١) اعلاه فقامت الوحدة المحاسبية بالاجراء اللازم

س ٥:- ١- في ٢٠١٤/١/٥ صدر أمر اداري في كلية الادارة و الاقتصاد لتشكيل لجنة صيانة و المتكونة من الاعضاء (جعفر احمد ، طف ثامر ، ناجي حبيب)

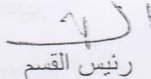
- ٢- في ٢٠١٤/١/١٠ استلمت اللجنة سلفة الصيانة بمبلغ ٨٠٠٠٠٠٠٠ دينار بموجب الصك المرقم ٥٥٨٧٩ و قدمت المستندات الآتية
- ٢/٢٠ مبلغ ٤٢٥٠٠٠٠٠ دينار لصيانة اجهزة التبريد و مبلغ ٣٧٥٠٠٠٠٠٠ دينار لصيانة الاثاث و تم تعزيز مبلغ السلفة بصك بتاريخ ٣/١
- في ٣/٢٩ مبلغ ٢٥٠٠٠٠٠٠ دينار لصيانة السيارات و ٥٠٠٠٠٠٠٠٠ دينار لصيانة المباني و تم تعزيز مبلغ السلفة بصك بتاريخ ٤/١٠
- في ١٢/٢٦ مبلغ ٢٠٠٠٠٠٠٠٠ دينار لصيانة التأسيسات الكهربائية و ٢٠٠٠٠٠٠٠٠ دينار لصيانة التأسيسات المائية و ١٠٠٠٠٠٠٠٠٠ دينار لصيانة الحدائق في الكلية و تم تسوية السلفة في نفس التاريخ .

دليل GFS : بنك الإيرادات المغلق ٣٢١٢٢٣١ ، بنك النفقات الاعتيادي ٣٢١٢٢٢١١ ، بنك النفقات الاستثمارية ٣٢١٢٢٢١٢ ، بنك الامانات ٣٢١٢٢٤١ ، نقد في الصندوق ٣٢١٢٢١١١ ، إيرادات رسوم الطابع ١٤٢٢١١ ، تأمينات الاستقطاعات النقدية ٩٩١٢٣٥٣١ ، التأمينات النظامية ٩٩١٢٣٥٢١ ، التأمينات الأولية ٩٩١٢٣٥١١ ، سلف المقاولين / سلف يرهن المكين والمعدات ٣٢١٨١٥١ ، سلف الافراد العاملين / سلف الايفار ٣٢١٨١٢٢ ، سلف الافراد العاملين / سلف السفر ٣٢١٨١٢١ ، سلف الاعتمادات / سلف الاعتمادات المستندية ٣٢١٨١٤١ ، اثاث ٣١١٢٢٢١ ، امانات المستشفيات باسم المريض ٣٣١٨١٩١ ، امانات معالجة الزيادة في الصندوق ٣٣١٨٢٩١ ، امانات الضرائب ٣٣١٨١١١ ، امانات المحاكم ٣٣١٨٢١١ ، نفقات الانتقال / مخصصات ليلية ٢٢٢٢٢٢ ، نفقات الانتقال / وسائط نقل ٢٢٢٢٢٢ ، نفقات الانتقال / نفقات السكن ٢٢٢٢٢٢ ، مباني وإنشاءات ٣١١١٢٢١ ، إيرادات الخدمات الصحية ١٢٨١ ، إيرادات ضريبة الدخل ١١١١٢٢

مع تمنياتنا لكم بالنجاح والتوفيق


العميد

أ.د. عبدالحسين توفيق شبلي


رئيس القسم

أ.م.د. الهام جعفر الشاوي


مدرسي المادة

م.م. مروه نبيل م.م. إيمان كاظم

المادة: ادارة التسويق
والتجارة الالكترونية
المرحلة: الثانية
الوقت: ساعتان
التاريخ: 30/9 / 2024



أسئلة الامتحان
النهائي
الدور - الثاني
الكورس الاول للعام
الدراسي
2024/2023



جامعة البصرة
كلية الإدارة والاقتصاد
قسم المحاسبة
الدراسات الصباحية
والمسائية

ملاحظة: الاجابة عن خمسة اسئلة فقط مع تقديم الامثلة التسويقية (لكل سؤال 10 درجات)

س1: قارن بجدول موضحاً فيه نقاط الاختلاف الرئيسية بين التسويق الالكتروني والتسويق التقليدي؟

س2: اجب عن فرعين فقط:

أ. استعرض باختصار مضامين فلسفة التوجه البيعي في تطور التسويق؟

ب. ناقش مفهوم التسويق على وفق التعريفات التي قدمتها جمعية التسويق الامريكية؟ مبيناً ما هي اوجه الاختلاف بين كل منها؟

ت. قدم وصفاً لمحتوى (العوامل الديموغرافية، والعوامل الاقتصادية) في البيئة العامة؟ وما اهمية دراستهما للمسوقين؟

س3: بماذا تمتاز المرحلة الرابعة (مرحلة الانحدار) في دورة حياة المنتج؟ ولماذا تعد هذه المرحلة امراً لا يمكن تجنبه للكثير من المنتجات؟

س4: اجب عن فرعين فقط :

أ. ما الاختلاف بين منافسة العلامة التجارية ومنافسة الرغبة للمنظمات التسويقية ؟


ب. لماذا توصف صورة العلامة التجارية او صورة الشركة في اذهان الزبائن بانها احد الاصول غير الملموسة ؟


ت. اذكر اهم المكاسب والمخاطر ذات الصلة بتطوير المنتجات الجديدة؟


س5: حدد بنقاط الاسباب التي تجعل السعر يحتل مكانة بارزة تعطيه سمة التفرد والتميز بالمقارنة مع العناصر الاخرى في المزيج التسويقي؟

س6: وضح مفهوم الاعلان بحسب تعريف جمعية التسويق الامريكية (AMA)؟ وما العناصر الرئيسية في هذا التعريف؟

مع تمنياتي لكم بالنجاح


العميد


رئيس القسم


مدرسا المادة

د.د. عبدالحسين توفيق شبلي

أ.م.د. الهام جعفر حميد

م.م. محمد عبد الرضا فرج أ.م. رأفت عواد موسى



جمهورية العراق
وزارة التعليم العالي والبحث العلمي
جامعة البصرة
كلية الإدارة والاقتصاد/ قسم المحاسبة



أسئلة الامتحان النهائي للدراسات الصباحية والمسائية-الكورس الثاني للعام الدراسي 2023 - 2024 - الدور ()
المادة : بحوث عمليات المرحلة : الثانية التاريخ : / / 2023 الزمن : 2 ساعة

ملاحظة: الاجابة عن اربع اسئلة فقط ، توزع الدرجة بالتساوي على جميع الاسئلة.

Q1:A/ A company produces 3 products on A,B,C. The following table summarizes the data of the problem:

		Products			Maximum daily availability
		1	2	3	
Minutes per unite	A	0.5	2	1	40
	B	3	2	0.5	30
	C	0.25	4	2	25
Unite profit		20\$	30\$	10\$	

Formulate the problem as an linear programming model.

B/ Formulate the duality L.P. model

$$\text{Max } Z = 8X_1 - X_2 + 4X_3$$

S.t

$$X_1 + X_2 - 3X_3 = 25$$

$$X_1 - X_2 \leq 45$$

$$X_1 - X_2 + X_3 \geq 12$$

$$X_1, X_3 \geq 0 ; X_2 : \text{unrestricted}$$

Q3/ Solve the following linear programming by Simplex method

$$\text{Max } Z = X_1 + 2X_2$$

S.t

$$X_1 + 2X_2 \geq 5$$

$$X_1 + X_2 \leq 4$$

$$X_1, X_2 \geq 0$$

Q3/ Solve the following transportation problem by North-west corner

		Demand center				
		D1	D2	D3	D4	
Sources	S1	2	6	1	1	150
	S2	7	7	8	5	80
	S3	1	2	2	3	120
		120	70	110	50	

Q4/Solve the following linear programming problem by Graphical method

$$\text{Max } Z = x_1 + 3x_2$$

$$\text{S.T. } 3x_1 + 4x_2 \leq 12$$

$$x_1 + 2x_2 \leq 4$$

$$x_1 \leq 2$$

$$x_1, x_2 \geq 0$$

Q5/ Find the optimum solution of A player for the following game matrix

	B1	B2	B3
A1	2	3	-6
A2	9	7	-3
A3	10	8	-5

مع تمنياتنا للجميع بالنجاح

رئيس القسم
 ا.م.د. الهام جعفر حسين

مدرس المادة
 ا.م.د. وليد ميه رودين

مدرس المادة
 ا.م.د. بهاء عبد الرزاق قاسم

المادة: رياضيات مالية
المرحلة: الثانية
التاريخ: / / 2024



أسئلة امتحان النهائي الدور
الثاني
2024/2023



جامعة البصرة
كلية الإدارة والاقتصاد
قسم المحاسبة

اجب عن كل خمسة اسئلة مما يأتي لكل سؤال 10 درجات.

س1: / دين يستحق السداد بعد 10 شهور من اليوم وكان الفرق بين الخصم التجاري والخصم الصحيح هو 20 دينار فإذا علمت ان معدل الخصم 12% سنويا.

المطلوب : 1- احتساب القيمة الحالية التجارية والقيمة الحالية الحقيقية.

2- احتساب القيمة الاسمية.

س2: / اقترض شخص مبلغ من المال بمعدل 8 % سنويا يستحق الدفع بعد 9 شهور فإذا كان الفرق بين القيمة الحالية الصحيحة والقيمة الحالية التجارية 18 دينار اوجد القيمة الاسمية؟؟.

س3: / أ- عرف كل من الخصم التجاري والخصم الصحيح ثم اوجد اهم العلاقات بينهما .

ب- اذا كانت الفائدة البسيطة على مبلغ 650 دينار لمدة 3 اشهر بمعدل معين تساوي الخصم الحقيقي بنفس المعدل على دين مقداره 495.625 دينار تستحق السداد بعد أربعة اشهر .

س4: / اودع شخص مبلغ 100 دينار في اول كل شهر من شهور عام 2016 ومبلغ 200 دينار في اول كل شهر من شهور عام 2017 اذا كان المصرف يمنح فوائد بمعدل 6 % سنويا اوجد جملة المستحق له في المصرف نهاية 2017؟؟.

س5: / - في 7/7 2021 قطع احد الأشخاص ثلاثة أوراق تجارية لدى مصرف الرافدين الذي يعتمد شروط قطع (7% ، 1.5% ، 0.5%) فكان ما استلمه من المصرف 1150 دينار ، فإذا علمت ان القيمة الاسمية للأولى 300 دينار تستحق السداد 10/10 2021 والثانية 400 دينار تستحق السداد 11/11 2021 والثالثة 500 تستحق السداد في تاريخ معين ، فما هو هذا التاريخ.

س6: / استثمر شخص 8 دفعات متساوية قيمة كل دفعة 60 دينار تدفع كل ثلاثة اشهر ، فإذا بلغ الفرق بين جملتيهما على انهما دفعات استثمار ودفعات سداد 7.5 دينار ما هو معدل الفائدة .

مع التمنيات بالنجاح

رئيس القسم

أ.م.د. الهام جعفر الشاوي

مدرسي المادة

أ.م.د. وليد مية رودين . أ.م.د. الهام جعفر الشاوي

عميد الكلية


أ.د. عبد الحسين توفيق شبلي



Note\ Answer four questions, with the first being among them

Q1. Multiple Choices. Choose the correct answer and show the computations if any (20 Marks).

1. If the company Paid \$200,000 cash for expenses that's will
 - a. Decrease Assets by \$200,000, decrease owner's equity by \$200,000.
 - b. Decrease Assets by \$200,000, decrease liabilities by \$200,000.
 - c. Increase Assets by \$200,000, decrease owner's equity by \$200,000.
 - d. Increase Assets by \$200,000 and increase Liabilities by \$200,000.
2. On July 1 the Fisher Shoe Store paid \$24,000 to Acme Realty for 6 months rent beginning July 1. Prepaid Rent was debited for the full amount. If financial statements are prepared on July 31, the adjusting entry to be made by the Fisher Shoe Store is.
 - a. debit Rent Expense, \$24,000; credit Prepaid Rent, \$24,000.
 - b. debit Prepaid Rent, \$24,000; credit Rent Expense, \$24,000.
 - c. debit Rent Expense, \$4,000; credit Prepaid Rent, \$4,000.
 - d. debit Prepaid Rent, \$4,000; credit Rent Expense, \$4,000.
- 3-The Harris Company purchased equipment for \$15,000 on December 1. It is estimated that annual depreciation on the computer will be \$3,000. If financial statements are to be prepared on December 31, the company should make the following adjusting entry.
 - a. debit Depreciation Expense, \$3,000; credit Accumulated Depreciation, \$3,000.
 - b. debit Depreciation Expense, \$250; credit Accumulated Depreciation, \$250.
 - c. debit Depreciation Expense, \$12,000; credit Accumulated Depreciation, \$12,000.
 - d. debit Equipment, \$15,000; credit Accumulated Depreciation, \$15,000..
4. Al-Salamy company purchases goods on account for \$6000, then
 - a. Assets and liabilities both decrease by \$6000. b. Stockholders' equity increases by \$6000.
 - c. Assets increase by \$6000 and liabilities decrease by \$6000. d. Assets and liabilities both increase by \$6000.
5. One of the following is not an asset: a. Inventory. b. Equipment. c. Building d. Notes Payable.
6. On November 1, Duane paid \$13,500 in advance for a year's rent. The November 30 adjusting entry for rent expense should include a
 - A. debit Rent Expense, \$13,500 B. debit Rent Expense, \$1,125
 - C. credit Prepaid Rent Expense, \$13,50 D. credit Cash, \$1,125
- 7- Assets of a company would not include
 - a. Accounts payable. b. Accounts receivable. c. Inventory. d. Cash



8-A credit sale of \$750 is made on June 13, terms 2/10, N/30. A return of \$50 is granted on June 16.

The amount received as payment in full on June 23 is.

- a. \$700. b. \$686. c. \$685. d. \$650

9-Al Alaa company purchased a computer for ID2,400 on December 1. It is estimated that annual depreciation on the computer will be ID480. If financial statements are to be prepared on December 31, the company should make the following adjusting entry:-

- a. Debit depreciation Expense, ID480; credit accumulated Depreciation ID480.
b. Debit depreciation Expense, ID40; credit accumulated Depreciation ID40,
c. Debit depreciation Expense ID1920; credit accumulated Depreciation ID1920
d. Debit office equipment, ID2400; credit accumulated Depreciation ID2400

10-Company FF accumulates the following adjustment data at December 31.

Revenue of ID800 collected in advance has been earned. The adjusting entry :-

- a. Debit cash, ID 800; credit unearned revenue ID 800.
b. Debit revenue, ID 800 ; credit unearned revenue ID 800.
c. Debit unearned revenue ID 800; credit revenue ID 800.
d. Another answer

Q2 \AT Sea Company a service company provide service to customer, prepare the journal entries for the transactions below. (10 Marks).

- a. purchased supplies cash for ID2000
b. paid wages to employee for the month for ID5000
c. Revenue from services performed during the month totaled ID9000.
d. a contract was signed with a newspaper for a ID250 advertisement but the amount not paid until next month.
e. purchased merchandise for ID12500 of this amount ID12000 paid and the balance expected to pay within 30days.
f. paid ID500 cash for net expenses



- g. provide service for ID7500 of this amount received ID5000 and the balance will be received within 10 days.
- h. purchased equipment for ID3000 cash.
- i. paid rent for the month worth ID2000.
- j. provide services for ID8000 cash
- b. paid wages to employee for the month for ID5000

Q3 (Amount in 000) When the accountant reviews the records he discovers the wrong entries below:

(10 Marks).

1. An amount of ID325 recorded as ID532 for purchases merchandise on account
2. received note receivable from customer debited to note payable for ID500.
3. the honors withdraw cash for ID200 debited to cash and credited to withdraw
4. sold merchandise for ID1000 on credit with trade discount 10% on account debited to cash discount for ID100 and ID900 account receivable and credited to sales for ID1000
5. sold machines for ID1800 cash credited to sales.
6. sales returns for ID100 from customer who purchased the merchandise on account credited to sales and debited to cash.
7. received cash from customer for ID400 credited to account payable.
8. purchases equipment cash for 5000 debited to equipment for ID500 and credited to cash ID500
9. purchased land for ID20000 cash debited to purchases account.
10. paid wages to employee for ID3000 has been posted twice to wages expenses.

Required: pass journal entries to rectify the above errors using short method.

Q4 Prepare an income statement, a statement of retained earnings, and a balance sheet for the Norma's practice of Ali Huseen, from the items listed below for the month of September, 2006. (Amount in 000).

(10 Marks).

Retained Earnings	ID40,000
Common Stock	2,000
Account payable	7,000
Equipment	30,000
Service revenue	25,000

Subject: Accounting
Date:



Final Exam
2023-2024
First Semester



COLLEGE OF ACCOUNTING
collage
Accounting Department
Second Class

Dividends	6,000
Norma' s supplies expense	3.500
Cash	8,000
Utilities expense	700
Dental supplies	2800
Salaries expense	7000
Accounts receivable	14000
Rent expense	2000


Q5\ (All amount in million) Al star company show a balance of ID 7699 and balance per bank of ID 10240 On June 30, suppose furtherer that by applying the procedures described above we find the following differences : (10 Marks).


- a- cheque No 5483 for ID 1900 dated June 27 deposited on June 30 has not been collected.
- b- Cheques issued and recorded by al star company but not yet presented to the bank for payment are as follows.

Cheques No	date	Amount
2108	25\5	1291
2110	29\5	617
2113	1\6	407
2116	4\6	96
2118	11\6	1098

- c-credit advice states that the bank collected a Note receivable for ID 900 together with interest ID of 12.
- d- Cheque No 2112 for 5481 was recorded in the company's record in correctly as ID 5544
- e- credit advice states that the bank credited interest of ID87.
- f-A debit advice states that the bank Levied quarterly service charge of ID130

Require. prepare the bank reconciliation for Al star company on June 30,


A.P.D Elham .J. Hameed


P.D Fatima j. Mohmmmed


A.L. Hanan S. Mahdi

المادة: جرائم نظام البعث
المرحلة: الثانية
الوقت: ساعتان
التاريخ: ٢٠٢٤ / ٧ / ١٤



أسئلة الامتحان
النهائي
الدور - الثاني
الكورس الثاني
للعام الدراسي
٢٠٢٤/٢٠٢٣



جامعة البصرة
كلية الإدارة والاقتصاد
قسم المحاسبة

ملاحظة: الإجابة عن خمسة أسئلة لكل سؤال (10) درجات .

س ١ / عرف ما يأتي :

(١) المحكمة الجنائية العراقية العليا

(٢) المقابر الجماعية

س ٢ / صحح العبارات الخاطئة فيما يأتي وأعط الأجابة الصحيحة لها :

(١) تقع مقبرة الباوية في محافظة السليمانية .

(٢) حدثت جريمة أحداث الجمعة عام ١٩٨٢ في محافظة النجف الأشرف .

س ٣ / تنقسم الجرائم الاجتماعية لنظام البعث على قسمين ، عددها وتكلم عن واحدة منها بإيجاز .

س ٤ / عدد خمسة فقط من أقسام الجرائم مع إيجاز شرح واحدة منها .

س ٥ / تكلم وبيجاز عن تجريف بساتين النخيل والأشجار والمزروعات .

س ٦ / أكتب تقريراً بحسب رأيك الخاص عن جرائم نظام البعث تجاه أبناء الشعب العراقي .

العميد

أ.د. عبدالحسين توفيق شبلي

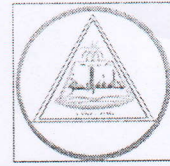
مع تمنياتي لكم بالنجاح

رئيس القسم

أ.م.د. الهام جعفر الشاوي

مدرس المادة

أ.م.د. عباس عبدالعزيز صيهود



ملاحظة: الاجابة عن أربع اسئلة فقط

- س1:- أن الرصيد النقدي لدائرة المحاسبة قسم الامور النقدية في الحساب الجاري لها هو 19550000 دينار.
- 1- في يوم 1 / 4 / 2018 مولت خزينة محافظة بغداد بمبلغ مقداره 7000000 دينار لحاجة المحافظة لها من دائرة المحاسبة قسم الامور النقدية.
- 2- في يوم 10 / 4 / 2018 مولت خزينة محافظة بغداد دائرة صحة بغداد بمبلغ مقداره 7530000 دينار لحاجة مستشفى اليرموك لها .
- 3- في يوم 15 / 4 / 2018 مولت دائرة المحاسبة خزينة محافظة بغداد مبلغ مقداره 900000 لحاجتها لتمويل بعض المشاريع .
- 4- يوم 16 / 4 / 2018 قامت خزينة محافظة بغداد بتحويل مبلغ 2000000 دينار الى خزينة محافظة صلاح الدين .
- 5- في يوم 20 / 4 / 2018 تم اعادة مبلغ 500000 الى خزينة محافظة بغداد من قبل صحة بغداد لعدم الحاجة اليه.

المطلوب:- القيود المحاسبية في سجلات الجهات المتأثرة وحسب تواريخها

س2 :- أجب عن احد الفرعين :

- أ- ما هي النظريات التي تحدد القدرة الانفاقية للوحدة الحكومية عددها و اشرح واحدة منها.
- ب- وضع مزايا النظام المحاسبي الحكومي اللامركزي

س3 :- ان اعداد الموازنة العامة للدولة تمر بعدة مراحل اشرحها بالتفصيل

س4:- املئ الفراغات الاتيه :

- 1- المعلومات المحاسبية التي تتضمنها التقارير المالية تستخدم للاغراض التالية _____ و _____ و _____
- 2- للمحاسبة الحكومية وظيفتان اساسيتان هما _____ و _____
- 3- يتم تبويب المصروفات وفقا للتبويب الاقتصادي الى _____ و _____ و _____
- 4- الوظائف الرئيسية للخزينة هي _____ و _____ و _____

س5 :- تمت العمليات التالية في كلية الهندسة / جامعة البصرة :

- 1- في 2020/8/1 استلمت الكلية اشعاراً من البنك بتمويل حسابها الجاري بمبلغ 400000000 دينار من قبل جامعة البصرة .
 - 2- في 2020/ 8/5 استلمت الكلية مبلغ 1000000 دينار عن رسوم الهويات نقداً .
 - 3- في 2020/8/10 استلمت الكلية مبلغ 5000000 دينار عن بيع كتب ومجلات نقداً .
 - 4- في 2020/8/12 تم إيداع المبالغ المستلمة في الفترتين 2 و3 في الحساب الجاري لدى البنك .
 - 5- في 2020/8/18 دفعت الكلية مبلغ 20000000 دينار أجور المتعاقدين بوجب الصك المرقم 22591 .
 - 6- في 2020/8/20 دفعت مبلغ 20000000 دينار أجور كهرباء بموجب الصك المرقم 22491 .
 - 7- في 2020/8/29 لوحظ من خلال التدقيق الداخلي ان المبلغ الواجب صرفه فعلاً الى دائرة الكهرباء هو 2000000 دينار .
 - 8- في 2020/8/30 سددت المطبوعة مبلغ الزيادة بموجب الصك المرقم 11121 الى الوحدة المحاسبية .
- المطلوب / اجراء القيود اللازمة وفقاً للتبويب الدولي GFS .

علماً ان ارقام الدليل لبعض الحسابات هي : بنك النفقات الاعتيادي 3212211 ، نقد في الصندوق 3212111 ، بنك الإيرادات المغلق 321211 ، امانات متنوعة باسم الجهة 3318191 ، سلف متنوعة (مؤقتة) 3218114 ، إيرادات ايجار قاعات 1423218 ، مصاريف ايجار قاعة 2423218 ، اجور الخدمات المصرفية 2221139 ، الاشتراك في الصحف 222143 ، النقص في الإيرادات بذمة الشخص 98113341 ، رسوم الهويات وتجديدها 1145223 ، بيع كتب ومجلات 1423232 ، أجور المتعاقدين 211113 ، أجور الكهرباء 221141 .

مع تمنياتنا لكم بالنجاح والتوفيق

رئيس القسم
أ.م.د. الهام جعفر حميد

مدرس المادة
م.م. إيمان الضاحي

مدرس المادة
م.م. مروة نبيل



ملاحظة : الاجابة على ثلاثة اسئلة على ان يكون السؤال الاول من ضمنها

س١ // اختر الاجابة الصحيحة :

١- البيانات النصية هي البيانات التي تتكون من : أ- ارقام فقط ب- حروف فقط ج- تواريخ وزمن.

٢- يتم التنقل بين اوراق العمل من خلال أ- شريط علامة تبويب الورقة ب- اشرطة التمرير ج- شريط المعلومات

٣- تقسم انواع البيانات في خلايا الاكسل الى ا- بيانات رقمية فقط ب- بيانات نصية فقط ج- بيانات رقمية او نصية او بيانات الوقت والتاريخ او المعادلات

٤- للصق بيانات الخلية في الاكسل نختار ا- ctrl+c ب- ctrl+v ج- Delete

س٢ // اكمل الفراغات الاتية:

١- مربع النقاء العمود مع الصف يسمى.....

٢- عبارة عن صيغ رياضية يتم ادخالها في الخلية لتعطي نتائج تظهر النتائج في الخلية بدل من المعادلة.

٣- هو الشريط العلوي في النافذة ويحتوي على اسم المصنف ويحتوي هذا الشريط على ايقونات الاغلاق والتكبير والتصغير.

٤- يتم تسمية عنوان الخلية في العمود D والصف ٥

س٣ // ضع اشارة (√) امام العبارة الصحيحة و اشارة (x) اما العبارة الخاطئة فيما يلي :

١- تحمل ملفات الاكسل امتداد Excel.

٢- تمتد الاعمدة عموديا ويعرف بارقام مثل العمود ١ والعمود ٢.

٣- يقوم المفتاح Delete بحذف الخلية المحددة وازاحة الخلية للاعلى.

٤- شريط الصيغة يظهر فيه اسم الخلية المحددة.

٥- ترجع الدالة IF قيمة معينة اذا كان الشرط الذي حدده يساوي True وترجع قيمة اخرى اذا كان ذلك الشرط يساوي False.

س٤ : اجب عما يلي :

١- كيف يتم ادراج خلية او خلايا في ورقة Excel.

٢- كيف يتم التنقل بين الخلايا في Excel .

٣- كيف يتم ادراج عمود او اعمدة في ورقة Excel.

٤- ماذا يقصد بشريط المعلومات.

مع تمنياتي لكم بالنجاح و التوفيق

١٥١

رئيس القسم

أ. م. د. الهام الشاوي

مدرس المادة

أ. م. د. مهند هادي صالح

المرحلة الثالثة

المرحلة: الثالثة
الصباحي والمسائي
التاريخ: 2024/ 6/ 23
الوقت: ساعتين



أسئلة الامتحان النهائي
الكورس الأول الدور الثاني
2024/2023
النظام المحاسبي الموحد



جامعة البصرة
كلية الإدارة والاقتصاد
قسم المحاسبة

الإجابة عن أربعة أسئلة فقط (كل سؤال 12.5)

س1 // كان رصيد ح/ الدفعات المقدمة في سجل الاستاذ لأحدى الشركات التجارية في القطاع الخاص يبلغ 500000 دينار، 80 % من هذا المبلغ يمثل دفعه مقدمة سددت الى الشركة العامة للسيارات عن شراء (5) سيارات لنقل البضائع سعر الواحدة منها 200000 دينار (على افتراض تسوية الدفعات المقدمة على أساس السيارات المستلمة). وبعد مرور فترة استلمت الشركة التجارية سيارتين فقط وسددت المتبقي من قيمتها بصك على ان يتم استلام السيارات المتبقية فيما بعد، ثم استخدمت هاتين السيارتين لأغراض نقل بضائع الشركة.

المطلوب: اثبات قيود اليومية اللازمة وتصوير الحسابات المعنية في سجلات الشركة التجارية.

س2 // كان رصيد ح / اعتمادات مستندية لموجودات ثابتة في سجلات احدى الشركات الصناعية العامة مبلغ 356000 دينار عن استيراد أربع مكائن من خارج القطر ويمثل المبلغ المذكور 35 % من قيمة الاعتماد بضمنه مبلغ 6000 دينار مصاريف تتعلق بالاعتماد. وكان الاتفاق بين الشركة والمجهز الاجنبي يتضمن شحن المكائن على وجبتين بالتساوي. وقد وصلت الشحنة الاولى وسدد الى المصرف المتبقي من قيمة هذه الشحنة واستلمت مستندات الشحن الخاصة بها كما بلغت مصاريف الرسوم الكمركية مبلغ 50000 دينار ومصاريف النقل مبلغ 25000 دينار سددت بصك. ثم تم استخدامها في أحد الأقسام الانتاجية للشركة.

المطلوب / اجراء القيود اليومية اللازمة وتصوير الحسابات المعنية في دفتر الاستاذ للشركة المستوردة

س3 // كان رصيد (ح / الدور السكنية) في سجلات احدى الشركات مبلغ 1000000 دينار ورصيد (ح/ دفعات مقدمة) مبلغ 250000 دينار ورصيد (ح / تأمينات مستلمة) مبلغ 100000 دينار وقد استلمت هذه الشركة من أحد المقاولين في القطاع المختلط الذرعة الاخيرة من مقاوله انشاء الدور السكنية انجز من قبله لحسابها وكان اجمالي قيمة المقاوله 2500000 دينار وقد سدد صافي استحقاق المقاول بصك بعد ان احتجزت منه تأمينات الصيانة بنسبة 10 % من العمل المنجز على ان لا يزيد على 5% من اجمالي قيمة المقاوله. كما استقطع القسط الخير من الدفعة المقدمة والذي يمثل رصيد ح / الدفعات المقدمة المذكور سابقا. كما احتسبت عليه غرامات تأخيريه قدرها 30000 دينار علما ان المقاول بريء الذمة تجاه دوائر الضريبة والضمان. وبعد انجاز العمل تم استخدام الدور السكنية من قبل موظفي الشركة.

المطلوب / اثبات قيود الذرعة الاخيرة، والاستخدام، وإطلاق التأمينات في سجلات الجهة الامرة (المستفيدة من الدور

السكنية) بالعمل وتصوير الحسابات المعنية في دفتر الاستاذ العام؟

س14 قامت احدى الشركات بفتح اعتماد مستندي لدى المصرف بمبلغ 10000 دينار لغرض استيراد مواد تعبئة وتغليف تستخدم في تغليف منتوجاتها وقد تم تسديد المبالغ الاتية الى المصرف في تواريخ مختلفة

- 5000 دينار الدفعة الاولى من قيمة الاعتماد

- 100 دينار مصاريف فتح الاعتماد

- 75 دينار مصاريف التامين على الاعتماد

ولم يتم المجهز بالشحن خلال المدة المقررة فطلبت الشركة من المصرف الغاء الاعتماد وتسجيل صافي المبالغ المدفوعة من قبلها على حساب الاعتماد في حسابها الجاري لديه وقد استلمت الشركة اشعارا من المصرف بتسجيل مبلغ 5075 دينار في حسابها الجاري لديه واعتبار مصاريف فتح الاعتماد ايرادا متحققا للمصرف.

المطلوب: قيود اليومية اللازمة للعمليات اعلاه في سجلات الشركة؟

س15 سجل قيود اليومية اللازمة للعمليات التي تمت في الشركة العامة للصناعات الجلدية:

1. في 5/2 تم شراء ما قيمته 10 مليون من الزيوت بشيك وصرفت للإنتاج بشكل مباشر
2. 5/16 تم شراء ما قيمته 80 طن من الجلود بمبلغ 80 مليون بقرض قصير الأمد، علما ان رصيد المادة في المخزن هو 50 طن بقيمة 50 مليون
3. في 5/20 تم صرف 15 طن من الجلود الى القسم الإنتاجي س والذي حول منه 3 طن الى القسم الإنتاجي ص.
4. في 9/2 تم صرف ما قيمته 8 مليون من الأدوات الاحتياطية للأقسام الإنتاجية اعيد منها 2 مليون لعدم الحاجة اليها
5. في 12/1 تم بيع مخلفات جلدية تالفة لم يتم إدخالها مخزينا بمبلغ 2500 دينار
6. في 12/16 بيعت مخلفات جلدية بمبلغ 3500 دينار سبق لها وان قيمت بمبلغ 1500 دينار وأدخلت المخزن المختص خلال العام السابق

مع تمنياتنا لكم بالنجاح

مدرسي المادة

أ.م.د. عبد الخالق ياسين البدران

أ.م.د. عدي صفاء الدين البطاط

عميد الكلية

رئيس القسم

أ.د. عبد الحسين توفيق شبلي

أ.م.د. الهام جعفر الشاوي

**الإجابة عن أربعة أسئلة فقط (لكل سؤال 12.5 درجة):-**

س1/ في إحدى شركات القطاع المختلط كان رصيد حساب العجز المتراكم في 2000/1/1، 400000 منور من العام السابق وفي 2005 /12 /31 أظهر حساب النشاط الجاري رصيماً داتاً بمبلغ 700000 دينار فتقرر استخدام 50% من هذا المبلغ لإطفاء جزء من الخسارة المدورة من العام السابق، أما المبلغ المتبقي من الأرباح فيوزع كالآتي:
30000 دينار ضريبة الدخل العام، 50000 دينار حصة مؤسسة التقاعد والضمان الاجتماعي، 100000 دينار توزع على المساهمين، 90000 دينار توزع بين احتياطي التوسعات والاحتياطي العام والاحتياطيات المتنوعة بالتساوي.
المطلوب / اجراء قيود اليومية اللازمة في دفتر الاستاذ للشركة المذكورة

س2/ في 2002 /1/1 كان رصيد مخصص الديون المشكوك في تحصيلها 7000 دينار في سجلات إحدى الشركات التجارية المساهمة واليك العمليات المتعلقة بهذا الحساب:

- 1 - في 2 / 4 تقرر شطب دين المترتب بذمة أحد عملاء القطاع الخاص والبالغ 5500 دينار لتعذر استحصاله منه.
- 2 - في 4 / 7 قام أحد عملاء القطاع الخاص بتسديد المبلغ الذي بذمته والذي سبق وان شطب من السجلات والبالغ 9000 دينار نقداً
- 3 - في 6 / 10 أعلن أحد عملاء القطاع الخاص افلاسه ولم تتمكن الشركة من استحصالي الدين الذي بذمته والبالغ 3500 دينار فتقرر شطبه من السجلات

4 - في 31 / 12 / قررت الشركة تكوين مخصص للديون المشكوك في تحصيلها بنسبة 4 % من رصيد ح / العملاء البالغ 50000 دينار و5% من رصيد مدينو نشاط غير جار البالغ 32000 دينار.
المطلوب: أثبات قيود اليومية اللازمة وتصوير الحسابات المعنية بدفتر الاستاذ للشركة المذكورة

س3// اليك بعض الفروقات المتعلقة بالرواتب والأجور التي تم اكتشافها خلال شهر آذار في إحدى شركات القطاع العام
والمطلوب: اجراء القيود اليومية اللازمة للتصحيح

- 1- هناك ترفيع لاحد المنتسبين من الموظفين العرب قدره 20 دينار شهري لم يصرف منذ ثلاثة أشهر فقرر المحاسب صرفها بشيك بعد استقطاع دينار عن زيادة حصة الموظف في اشتراكات التقاعد
- 2- هناك مبلغ 40 دينار عن مخصصات سكن ل احد الموظفين لم تصرف له خلال الشهر السابق فتم صرفها له بشيك.
- 3- اكتشف المحاسب انه لم يتم احتساب مخصصات الخطورة ل احد الموظفين الأجانب للشهر الماضي بمقدار 30 دينار فتم تسديدها له بشيك.
- 4- وجود مبلغ قدره 50 دينار عن مخصصات عائلية لم تصرف ل احد العمال ضمن راتب شهر كانون الأول للسنة السابقة تم صرفها له لهذا الشهر.
- 5- تبين بأن هناك أجور اعمال إضافية لمجموعة من العمال بلغت 100 دينار ضمن استحقاق الشهر السابق لم تصرف في حينها فتقرر صرفها ضمن الشهر الحالي.

س4 // ثبت المعالجات القيدية للعمليات التي تمت في سجلات عدة شركات من القطاع العام:

1- في 3/1 دفعت الشركة الى دار الحكمة للنشر والتوزيع مبلغ 800 دينار عن الاشتراك في الصحف والمجلات المحلية لمدة ستة أشهر اعتباراً من التاريخ المذكور.

2- في 2023/12/31 قدرت أجور الماء عن شهر كانون الأول سنة 2023 بمبلغ 500 دينار بسبب عدم ورود قائمة الماء لهذا الشهر وخلال شهر شباط سنة 2024 وردت قائمة الماء لشهري كانون الأول 2023 وكانون الثاني 2024 وكانت بمبلغ 1400 دينار وتم تسديدها بشيك وقد وزعت كلفتها بالتساوي بين الشهرين.

3- قامت الشركة التجارية العراقية بشراء مستلزمات الكترونية من شركة الصناعات الالكترونية العراقية بقيمة 340 مليون دينار ونقلت عن طريق النقل الخاص الى مقر الشركة بقيمة مليون دينار وسددت الشركة التجارية المبالغ نقدا اثبات في سجلات الشركة التجارية العراقية

4- فاتحت الشركة العامة لصناعة الأجهزة الالكترونية المكتب الاستشاري الفني لأجراء دراسة عن إمكانية تصنيع (ترانزستر) وقد جرى تنفيذ ذلك بمبلغ 750000 دينار ودفعت الشركة المبلغ اثبات المعالجة في الشركة العامة لصناعة الأجهزة الالكترونية.

س5/ اثبات المعالجات القيدية للعمليات التي تمت في شركات متنوعة الانشطة لسنة 2019:

1- تم اصدار امر عمل للورشة الفنية في احدى منشآت القطاع الاشتراكي الصناعية لتصنيع (20) قالب ، وقد بلغت الكلفة الفعلية لها (8000) دينار تم استخدام نصفها والباقي تم ارساله الى فرع المنشأة في الموصل ، كما تمكنت الورشة من تصنيع ادوات احتياطية بلغت كلفتها (900) دينار تم استخدامها في تصليح احدى المكين العاطلة مباشرة

2- قامت الشركة ببيع بضاعة الى وكيلها في ديالى قيمتها 80000 دينار بشيك بعد منحه خصماً قدره 10% من قيمة المبيعات وقد تضمن عقد البيع ان تتحمل الشركة أجور نقل البضاعة الى مخازن الوكيل المشتري البالغة 2000 دينار سددت بشيك الى أحد متعهدي النقل الخاص.

3- استلمت الشركة اصواف من الشركة العامة للنسيج الصوفي بكلفة 65000 دينار وقامت بتحويلها الى غزول واعادتها ثانية وقد بلغت قيمة العمليات التشغيلية مبلغ 7000 دينار تمت مطالبة الشركة بها.

4- استلمت الشركة ايجارات الأراضي العائدة لها بمبلغ 36000 دينار نقداً عن سنتين اعتباراً من 2019/7/1

5- في 12/20 باعت الشركة الى جمعية الاستهلاكية 100 مدفأة بمبلغ 4000 دينار وبخصم تجاري 10%

مع تمنياتنا لكم بالنجاح

مدرسي المادة

أ.م.د عبد الخالق ياسين البدران

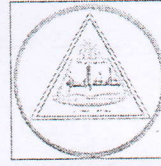
أ.م.د عدي صفاء الدين البطاط

عميد الكلية

رئيس القسم

أ.د عبد الحسين توفيق شبلي

أ.م.د الهام جعفر الشاوي



ملاحظة / الاجابة عن ثلاثة اسئلة على ان يكون السؤال الاول بضمنها (أجبary):

س1 / في تاريخ 2018/1/1 قامت شركة مساهمة (س) بشراء 90% من أسهم شركة مساهمة (ص) وذلك بإصدار 67500 سهم من اسهم الشركة س علماً إن القيمة السوقية للسهم من اسهم شركة س كانت 3 دينار , وفيما يلي الميزانية العمومية لكل شركة في ذلك التاريخ :

الشركة المساهمة ص	الشركة المساهمة س	البيانات
50000	400000	نقدية و مدينون
125000	300000	المخزون
400000	1150000	الموجودات الثابتة (صافي)
575000 دينار	1850000 دينار	الاجمالي
100000	200000	الدائنون
-	150000	ارصدة دائنة
250000	-	قروض و سندات
50000	750000	رأس المال (1 دينار / سهم)
62500	450000	علاوة الاصدار
112500	300000	إرباح محتجزة
575000 دينار	1850000 دينار	الاجمالي

المطلوب / 1- إثبات قيد الاستثمار (الشراء) ؟

2 - إعداد ورقة العمل للاندماج ؟؟

3 - إثبات قيد الاستبعاد ؟؟؟

(20 درجة)

س 2 / في 2020/7/1 طرح مؤسسو إحدى الشركات المساهمة الخاصة 12000000 سهم للاكتتاب العام وهي تمثل 75% من إجمالي رأس المال الاسمي فإذا علمت إن القيمة الاسمية للسهم دينار واحد مدفوع منه عند الاكتتاب 70% والباقي بقسط واحد بعد ثلاثة أشهر . هذا وقد اكتتب المؤسسون بنسبة 25% من اسهم رأس المال واكتتب الجمهور بنسبة 80% من الأسهم المطروحة للاكتتاب العام , وقد بلغت مصاريف التأسيس 300000 دينار دفعت نقداً .

وفي 2020/10/1 تم دعوة المساهمين كافة لتسديد الإقساط المستحقة عليهم وسددو دون تأخير .

المطلوب // إثبات المعالجات المحاسبية الواجب اتخاذها مع تصوير الميزانية الافتتاحية للشركة المساهمة ؟

(15 درجة)

س 3 / في 2020/1/1 تم اتخاذ قرار بتصفية شركة البصرة المساهمة الخاصة بسبب بلوغ خسائرها المتراكمة 75% من رأس المال , وذلك عن طريق تعيين مصفي شركات لهذا الغرض وقد أظهرت نتائج تصفية الشركة ما يلي :

1. تم تحصيل ما يعادل 80% من قيمة المدينون وأوراق القبض .
2. تم بيع المخزون بخسارة بلغت 20% من القيمة الدفترية .
3. تم بيع الأثاث والمعدات بربح يعادل 25% من القيمة الدفترية .
4. شهرة المحل لا قيمة لها , وقد بلغت مصاريف التصفية 500000 دينار .
5. تم سداد ديون الشركة بالكامل .

وفي ذلك التاريخ كانت الميزانية العمومية لشركة البصرة المساهمة الخاصة كما يلي :

المبالغ	الاصول	المبالغ	الخصوم
3000000	المدينون واوراق القبض	2000000	الدائنون واوراق الدفع
2500000	النقدية	8000000	القروض
4500000	المخزون السلعي		
80000000	الاثاث والمعدات (صافي)	300000000	رأس المال (1 ينار /سهم)
10000000	شهرة المحل	60000000	علاوة الاصدار
		(270000000)	الخسائر المتراكمة
100000000 دينار	الاجمالي	100000000 دينار	الاجمالي

المطلوب /

1. إثبات المعالجة المحاسبية اللازمة لتصفية شركة البصرة المساهمة ؟
2. احتساب قيمة سهم الشركة عند التصفية؟؟ (15 درجة)

س 4 / ظهرت الارصدة التالية في سجلات شركة بغداد المساهمة بتاريخ 2020/1/1 :

رأس المال الاسمي للشركة 25000000 دينار (1 دينار لكل سهم).

رأس المال المصدر للشركة 20000000 دينار مدفوع بنسبة 60% .

الارباح المحتجزة 6000000 دينار .

وخلال السنة المالية 2020 تمت العمليات المالية التالية :

- 1- استلمت الشركة الأقساط من المساهمين ماعدا مساهم واحد يمتلك 200000 سهم عجز عن السداد فقررت الشركة بيع اسهمه في المزايمة العلنية بمبلغ 1.5 دينار للسهم , وبلغت مصاريف البيع 100000 دينار.
- 2- تم اصدار اسهم رأس المال غير المصدرة وبسعر 1.4 دينار للسهم , وقد بلغت نسبة الاكتتاب 100% لإصدارها.
- 3- اعلنت الشركة ووزعت ارباح بصورة نقدية على المساهمين بواقع 0.125 دينار للسهم.
- 4- بلغ صافي الدخل المتحقق لسنة 2020 (صافي ربح) مبلغ 5000000 دينار.
- 5- في 2020/12/31 اعلنت الشركة واصدرت توزيع ارباح بصورة اسهم بما يعادل نصف رصيد الارباح المحتجزة في نهاية السنة المالية 2020 وبالقيمة الاسمية للسهم.

المطلوب / اثبات المعالجة والقيود المحاسبية اللازمة في سجلات شركة بغداد المساهمة ؟

(15 درجة)

م.م. ماهر اسماعيل بدران
استاذ المادة

أ.د. عبدالحسين توفيق شبلي
استاذ المادة

أ.د. عبدالحسين توفيق شبلي
العميد

أ.م.د. الهام جعفر الشاوي
رئيس القسم

Subject: Financial Analysis
 Date: / /202
 Time: 2 hours



Final Exam
 2024 - 2023
 First semester
 Type (B)



Economic &
 Administrative collage
 Accounting Department
 Third Class

Note: Answer Four Questions Only (Each Question 12.5 Marks)

Q1: The following information is related to Palai Ltd.

Particular	2015	2016
Current assets	100,000	80,000
Non-current assets	300,000	360,000
Shareholders' funds	250,000	275,000
Current liabilities	50,000	40,000
Non-current liabilities	100,000	125,000

Instructions: Prepare balance sheet showing a vertical analysis for Palai Ltd. (10 marks)

Q2/The following are income statement and the comparative balance sheets at the beginning and the ending of 2018 for Anssam's Co.:

Revenues 100000 , Operating expenses 70000, Income before income tax 30000 ,
 Income tax expense 10,000 , Net income 20,000

Comparative Balance Sheet as December 31, 2017 and 2018

Particulars	1/1/2018	31/12/2018
ASSETS		
Cash.....	10,000	25,000
Accounts receivable.....	8,000	13,000
Notes receivable.....	2,000	1,000
Computer equipment.....	5,000	14,000
Total.....	25,000	53,000
Liabilities and stockholders' equity Accounts		
payable.....	6000	10,000
Notes payable.....	4,000	3,000
Long-term debts.....	6,000	15,000
Owners' equity.....	9,000	25,000
Total.....	25,000	53,000

Additional information:

- 1) New computer equipment was purchased at the end of 2018, no depreciation.
- 2) The owner drew \$4,000 during the year.
- 3) No additional investments by the owner.
- 4) The increase in long term debt is the issuance of bonds.

Instructions :Prepare cash flows statement for the year ended December 31, 2018 by using Indirect Method And compute a cash flow ratio.(10 marks)

Q3/A/ The following balances appeared in the records of an industrial company:

Total Assets \$3,000; Total liabilities \$1,800; Sales \$4,000; Cash Assets \$800; Current Liabilities \$1200; Shareholders' Equity \$2,000; Net profit after tax \$150.

Instructions :Prepare an analytical study of these data by using the KIDA model to determine the extent of the entity's ability to continue.(6 marks)

Q3/B/ The following information is related about questions((choice the correct answer))
 sales \$500,000; profit before interest and tax 120,000; tax expense 20,000; current assets 160,000; fixed assets 240,000; current liabilities 60,000; inventory at 1/1 \$50,000; purchases 80,000; inventory at 31/12 \$40,000. (4 marks)

1. The net working capital will be/ a. \$400,000 b. \$240,000 c. \$100,000 d. (100,000)
2. The net profit ratio will be/ a. 0.20 b. 0.24 c. 0.28 d. 0.32
3. The inventory turnover ratio will be/ a. 3.77 times b. 4 times c. 3 time d. 2 times
4. The current ratio will be / a. 2.66 b. 3.66 c. 2.56 d. 3.56

Q4/ The following information is related to Mc. Co.

Particular	2015	2016	2017
Revenue from operations	100	120	160
Other income	20	24	20
Expenses	20	14	40
Income tax	30%	30%	30%

Instructions: Prepare net income statement showing a trend analysis for Mc. Co (10 marks)


Q5/ The following are the summarized Profit and Loss A/c and Balance Sheet of Zane Ltd.


Zane Ltd. Profit and Losses A/c			
To Opening Stock	99,000	By Sales	950,000
To Purchases	545,000	By Closing Stock	150,000
To Freight Inward	16,000	By Gross Profit	440,000
To Gross Profit	440,000	By Non-operating income	60,000
To Operating Expenses	200,000		
To Loss on Sale of Asset	40,000		
To Net Profit	260,000		


Zane Ltd. Balance sheet information as follow :

Land and Building 150,000, Plant and Machinery 180,000, Stocks. 150,000 ,Debtors 45,000,Bills Receivable 5,000, Cash 60,000, Share Capital (200,000 shares of \$1 par value) 200,000, Reserve and Surplus 260,000 , Bill Payable 40,000, Other Current Liabilities 90,000

Instructions : Compute: Operating profit ratio; Net profit ratio; Return on capital employed ratio; (EPS) , Quick ratio. (10 marks)


A.P. Jumana Handhal


Good Luck
A.L. Sameer I. Khalil


A.P.D Elham J. Hameed

المادة: محاسبة الضريبية
المرحلة: الثالثة
التاريخ: 2024/ /
الزمن: ساعتان



أسئلة الامتحان
النهائي
للعام الدراسي
2024/2023
الدور (2)



جامعة البصرة
كلية الإدارة والاقتصاد
قسم المحاسبة
الدراسات الصباحية
والمسائية

ملاحظة: الإجابة عن ثلاثة أسئلة على أن يكون السؤال الأول من ضمنها

- السؤال الأول // يزول احد المحامين مهنة المحاماة في مكتبه في بغداد وفيما يلي بيان لليرادات المتحققة من المهنة ومن الاعمال الاخرى والمطلوب تحديد مقدار الدخول الخاضعة لضريبة الدخل والمتحصلة في كل سنة من السنوات (2010 ، 2011 ، 2012 ، 2013) حسب التشريع العراقي وتوضيح العمليات الرياضية الخاصة بالاحتساب.
- 1- ارباح المكتب : (4000000 دينار للفترة من 2010/7/1 لغاية 2010/12/31)، (3900000 دينار للفترة من 2011/1/1 لغاية 2011/12/31)، (9700000 دينار للفترة 2012/1/1 لغاية 2012/12/31)
 - 2- بدأ يعمل في احدى الشركات التجارية الخاصة براتب شهري مقداره 500000 دينار ابتداء من 2010/7/1 ثم اصبح راتبه 600000 دينار ابتداء من 2011/7/1 وفي 2012/1/1 تم حل الشركة .
 - 3- لدى اخيه مشروع تجاري وهو يعمل معه حصته النصف وكانت نتيجة عمل المشروع (الارباح) كالاتي: (15000000 دينار خلال عام 2010) (1600000 دينار خلال عام 2011) (1800000 دينار خلال عام 2012)
 - 4- اقرض صديقه الذي يعمل محامي ايضا مبلغ 9000000 دينار اعتبارا من 2010/3/1 لغاية 2010/12/31 بفائدة 6,5 % سنويا وهما يعلمان ان سعر الفائدة القانوني 7%
 - 5- قام بالتوسط في صفقة لاستيراد بعض السلع لمستشفى خيري وحصل على عمولة 750000 دينار في 2013/8/1
 - 6- ارضه الزراعية مؤجرة ابتداء من 2010/4/1 لغاية 2010/12/31 ببدل ايجار سنوي 12900000 دينار (20 درجة)

(15 درجة)

السؤال الثاني / اجب عن الاتي:

- 1- ان الضريبة بوصفها اداة تمر بعمليات متعددة حتى تصبح اداة مالية تقوم بوظائفها المرسومة لها اذ تتداخل اطراف متعددة في هذه العملية ،وضح ذلك بالتفصيل من خلال بيان الجهات ذات العلاقة بنظام الضريبي؟
- 2- وضح بالتفصيل انواع الازدواج الضريبي؟

(15 درجة)

السؤال الثالث //

حضر الى مكتب السيد سامر خبيرضرائب ثلاث مكلفين الأول عراقي والثاني سُوري والثالث تايلندي وطلبوا منه ان يبين هل يعدون مقيمين في العراق ام غير مقيمين ؟ وما مقدار الدخل الخاضع للضريبة؟

الأول (العراقي) عمل في الأردن 2012/1/1 لغاية 2013/10/1 في التجارة وحقق ارباحاً نتيجة لذلك وله حصة من أرباح عمل تجاري مع اخوته في العراق وكانت أرباحه في الأردن وحصته من المشاركة في العراق

المدة	مقدار الأرباح في الاردن	حصته من أرباح المشاركة في العراق
المدة المنتهية 2012/12/31	1800000 دينار	1700000 دينار
المدة المنتهية 2013/12/31	1200000 دينار	1900000 دينار

علما انه زار العراق من (2012/3/1 لغاية 2012/4/1) ومن (2012/8/1 لغاية 2012/9/1) ومن (2013/4/1 لغاية

الثاني(سوري) عمل في العراق في شركة مقاولات قطاع خاص من 2013/10/1 لغاية 2014/10/1 راتبه الشهري 750000 دينار

الثالث(تايلندي) عمل خبيراً في مصنع قطاع خاص يتمتع بالعفاء حسب قانون الاستثمار الصناعي راتبه الشهري 1200000 دينار للمدة من 2013/11/1 لغاية 2014/4/1

(15درجة)

السؤال الرابع // اجب عن الاتي:

- 1- هل من الضروري اي يكون توافق بين مصلحة المكلفين منجهة ومصلحة الخزينة العامة من جهة اخرى؟وضح ذلك بتفصيل من خلال اشارتك الى القواعد الاساسية للنظام الضريبي.
- 1- ماهو الفرق بين الضريبة وايرادات الدولة الاخرى.

مع تمنياتنا لكم بالنجاح.




العميد

أ.د. عبد الحسين توفيق شبلي



رئيس القسم

أ.م.د. الهام الشاوي



مدرس المادة

م.م. محمد فرج

المادة: محاسبة تكاليف 2
المرحلة: الثالثة
التاريخ: 2024/ 7 /9
الوقت: ساعتان



أسئلة الامتحان
النهائي- الدور
الثاني - الكورس
الثاني
للعام الدراسي
2024/2023



جامعة البصرة
كلية الإدارة والاقتصاد
قسم المحاسبة
الدراسات الصباحية
والمسائية

ملاحظة: الاجابة على (اربعة أسئلة) فقط ولكل سؤال (12.5 درجة).

س 1 - اجب عن الآتي: (12.5 درجة):

- 1 - بدء العمل خلال الشهر على 2000 وحدة، والوحدات التامة والمحولة 1500 وحدة، انتاج تحت التشغيل آخر المدة 500 وحدة تام 100% للمواد المباشرة. وكانت تكاليف الشهر من المواد المباشرة 90000 دينار. احسب كلفة وحدة الانتاج المكافى من المواد المباشرة.
- 2 - كان ربح التشغيل وفقا لطريقة الكلفة المتغيرة 52400 دينار، مخزون اخر المدة 1400 وحدة. تكاليف صناعية اضافية ثابتة للوحدة 8 دينار، احسب ربح التشغيل بطريقة الكلفة الكلية.
- 3 - التكاليف الصناعية الاضافية المخططة للشهر 30000 دينار، والأجور المباشرة المخططة 50000 دينار، وتحمل التكاليف الصناعية الاضافية على أساس الأجور المباشرة. وكانت الأجور المباشرة لأمر العمل رقم (10) 24000 دينار، والتكاليف الصناعية الاضافية الفعلية 15000 دينار، احسب فروقات التحميل لأمر (10).
- 4 - وحدات بدء بها 2800 وحدة، وحدات تمت وحولت 2600 وحدة، وحدات تالفة 200 وحدة، نسبة التلف الطبيعي 5% من الوحدات الجيدة، احسب كل من وحدات التلف الطبيعي و وحدات التلف غير الطبيعي.
- 5 - إذا علمت بان تكاليف التلف الطبيعي 120000 دينار وتكاليف التلف غير الطبيعي 80000 دينار، احسب التكاليف التي ستضاف على كلفة منتجات الشهر.

س 2 - قدمت اليك شركة ملاك البيانات الآتية الخاصة بالمرحلة الأولى وكالاتي: انتاج تحت التشغيل اول المدة 600 وحدة تامة 60% من تكاليف التشكيل، وكانت تكاليف انتاج تحت التشغيل اول المدة من المواد المباشرة 46000 دينار وتكاليف التشكيل 64000 دينار. وحدات تمت حولت 1800 وحدة، انتاج تحت التشغيل آخر المدة 500 وحدة تامة بنسبة 40% من تكاليف التشكيل، علما ان المواد المباشرة تضاف في بداية المرحلة، وكانت تكاليف الشهر: مواد مباشرة 333500 دينار، تكاليف التشكيل 346000 دينار.
المطلوب: بطريقة المتوسط المرجح:

- 1 - حصر الوحدات المادية ووحدات الانتاج المكافى. (4 درجة)
- 2 - تحديد كلفة وحدة الانتاج المكافى. (2.5 درجة)
- 3 - تحديد كلفة وحدات تمت وحولت وكلفة انتاج تحت التشغيل آخر المدة. (6 درجات)

س 3 - قدمت شركة فدك لصناعة الأثاث التي تعتمد نظام تكاليف الأوامر الإنتاجية البيانات الخاصة بشهر حزيران 2021:

- 1 - بلغ كلفة انتاج تام اول المدة لأمر العمل رقم (22) (انتاج 50 إطار صورة خشب عادي) 217600 دينار.
- 2 - انتاج تحت التشغيل اول المدة امر العمل رقم (24) (انتاج 10 كرسي خشب صاج): مواد مباشرة 224000 دينار، أجور مباشرة 186600 دينار، 149280 دينار تكاليف صناعية محملة.
- 3 - التكاليف الامر رقم (24) خلال الشهر: مواد مباشرة 156000 دينار، أجور مباشرة 124400 دينار.
- 4 - تحمل التكاليف الصناعية الاضافية بمعدل 80% من الأجور المباشرة. وقد بلغ التكاليف الصناعية الفعلية 99520 دينار.
- 5 - تم الانتهاء من العمل على الامر رقم (24) وقد سلم مع الامر رقم (22) الى الزبائن بربح 25% من الكلفة.
المطلوب:

- 1 - تحديد كلفة الامر رقم (24). (6.5 درجة)
- 2 - تسجيل قيود اليومية اللازمة. (6 درجة)

س 4- الآتي البيانات الخاصة بالإنتاج والمبيعات لأحدى الشركات لشهر أيلول 2022: تتكون الكلفة المتغيرة للوحدة من مواد مباشرة 25 دينار، أجور مباشرة 18 دينار، تكاليف صناعية إضافية متغيرة 12 دينار، تكاليف تسويق متغيرة 6 دينار، التكاليف الصناعية الإضافية الثابتة للسنة 27600 دينار، وتكاليف التسويق الثابتة للسنة 64400 دينار، وتكاليف الإدارية 48600 دينار، الوحدات المنتجة 1200 وحدة، والوحدات المباعة 1000 وحدة.

المطلوب:

1 - تحديد كلفة مخزون آخر المدة بطريقة الكلفة الكلية. (6.5 درجات)

2 - تحديد كلفة مخزون آخر المدة بطريقة الكلفة المتغيرة (6 درجات)

س 5 - الآتي البيانات المتعلقة بالمرحلة الاولى ولشهر آب حيث تضاف كل المواد في بداية المرحلة، المواد المباشرة 750000 دينار، وتكاليف التشكيل 798000 دينار، وحدات بدء بها 10000 وحدة، وحدات تمت وحولت 9000 وحدة، انتاج تحت التشغيل آخر المدة 1000 وحدة تامة بنسبة 50% من تكاليف التشكيل.

المطلوب: تحديد كلفة وحدات تمت وحولت وكلفة انتاج تحت التشغيل (12.5 درجة).


مع تمنياتي لكم بالنجاح

الشيخ

رئيس القسم
أ.م. د. الهام الشاوي



مدرسي المادة
أ.د. هاشم علي هاشم م. علي طه ياسين



ملاحظة / الاجابة عن ثلاثة اسئلة على ان يكون السؤال الاول بضمنها (اجباري):

س1 / احمد ومحمد ومصطفى شركاء في شركة تضامن يقسمون الارباح والخسائر بينهم بنسبة (4 : 3 : 3) على التوالي ونظراً لتوالي الخسائر على الشركة قرر الشركاء في 2020/12/31 حل الشركة التضامنية وتصفيتها وكانت ميزانية الشركة في تاريخ التصفية كما يلي :

المبالغ	الاصول	المبالغ	الاصول
115000	الآلات	160000	رأس مال الشريك احمد
(5000)	مخصص الاندثار المتراكم	140000	رأس مال الشريك محمد
240000	المباني	120000	رأس مال الشريك مصطفى
(35000)	مخصص الاندثار المتراكم		
60000	الات		
70000	مخزون البضاعة	20000	دائنون
45000	المدينون	15000	اوراق الدفع
(5000)	مخصص الديون المشكوك فيها	130000	قرض الشريك محمد
30000	النقدية		
70000	توزيع ارباح وخسائر		
585000 دينار	الاجمالي	585000 دينار	الاجمالي

وتمت التصفية بالطريقة التالية :

- 1) بيعت المباني بمبلغ 200000 دينار والآلات بمبلغ 90000 دينار والبضاعة بمبلغ 60000 دينار .
- 2) اخذ الشريك احمد الأثاث لحسابه الخاص الذي قدرته قيمته بمبلغ 45000 دينار.
- 3) تم تحصيل مبلغ 38500 دينار من المدينين .
- 4) تم تسديد مبلغ 18500 دينار للدائنين تسديداً لحسابهم .
- 5) تم دفع المطلوبات الأخرى بالكامل .
- 6) بلغت مصاريف التصفية كما يلي (5800 دينار رسوم قضائية ، 4500 دينار إعلان ، 5% من المبالغ المحصلة من المدينون أجور تصفية)

المطلوب / إجراء المعالجات المحاسبية اللازمة لتصفية الشركة التضامنية باستخدام طريقة ح/أ . خ التصفية ؟
(20 درجة)

س 2 / فيما يلي ميزانية شركة عادل وشركاه التضامنية كما هي عليه في 2019/12/31 وكانت الارباح والخسائر توزع بها بنسبة 1 : 1 : 3 على التوالي :

الموجودات	المطلوبات وحقوق الملكية
300000 المصرف	90000 رأسمال الشريك عادل
700000 موجودات ثابتة	150000 رأسمال الشريك علي
	310000 رأسمال الشريك علاء
	450000 دائنون
1000000 المجموع	1000000 المجموع

وفي ذلك التاريخ قرر الشريك (علي) الانسحاب من الشركة على ان يتم تحديد حصته بعد إعادة تقدير الموجودات الثابتة على أساس قيمتها السوقية البالغة 1200000 دينار بدلاً من قيمته المحاسبية البالغة 700000 دينار.

المطلوب / إثبات المعالجة المحاسبية و قيود الانسحاب وفق الحالات التالية :

1 - المبلغ المدفوع للشريك المنسحب يساوي 250000 دينار ؟

2- المبلغ المدفوع للشريك المنسحب يساوي 200000 دينار ؟

3 - المبلغ المدفوع للشريك المنسحب يساوي 300000 دينار ؟

(15 درجة)

س 3 / في 2021/12/31 حققت شركة (أ، ب، ج) التضامنية صافي ربح قدره 824250 دينار، وقد كانت رؤوس أموال الشركاء 525000 دينار، 675000 دينار، 900000 دينار على التوالي. فإذا علمت ان عقد الشركة ينص على توزيع الربح بعد منح الشريك (ب) مكافأة بنسبة 30% من صافي الربح ، وكذلك فائدة على رؤوس أموال الشركاء بنسبة 10% والباقي يوزع بالتساوي.

المطلوب / اثبات المعالجة المحاسبية لتوزيع صافي الربح بين شركاء الشركة التضامنية لسنة 2021 ؟

(15 درجة)


س 4 / (أ ، ب) شريكان في شركة تضامن ، رؤوس أموالهم 500000 دينار لكل منهم ، يقتسمان الارباح والخسائر بنسبة 1 : 3 وافق الشريكان على انضمام ج شريك جديد على ان يدفع نقداً 400000 دينار مقابل الانضمام. فإذا علمت ان القيمة السوقية لموجودات الشركة مساوية لقيمتها الدفترية في تاريخ الانضمام ويكون للشريك الجديد ج ربع رأس المال بعد الانضمام وربع الارباح والخسائر.


المطلوب / إثبات المعالجة المحاسبية لانضمام الشريك ج الى شركة التضامن ؟ وحسب الحالات الآتية :

1- تعالج الشركة الفرق إن وجد على انه شهرة محل ؟


2- تعالج الشركة الفرق إن وجد على انه مكافأة ؟

(15 درجة)



م.م. ماهر اسماعيل بدران
استاذ المادة


أ.د. عبدالحسين توفيق شبلي
استاذ المادة


أ.د. عبدالحسين توفيق شبلي
العميد


أ.م.د. الهام جعفر الشاوي
رئيس القسم

المادة: محاسبة مصادر
المرحلة: الثالثة
الوقت :- ساعتان
التاريخ: 2024/ /



أسئلة الامتحان النهائي
للعام الدراسي
2024/2023
الدور (1)



جامعة البصرة
لية الإدارة والاقتصاد
قسم المحاسبة

ملاحظة // الاجابة على ثلاثة اسئلة على ان يكون السؤال الاول من ضمنها

س1/ اكتب الاجابة الصحيحة :

(20 درجة)

1. لا تختلف المعالجة المحاسبية للطريقة الرأسمالية عن طريقة المجهودات الناجحة اذا كان			
<input type="radio"/> لديك تنازل جزئي	<input type="radio"/> لديك تنازل كلي	<input type="radio"/> لا يوجد تنازل	<input type="radio"/> لا شيء مما سبق
2. اذا لم يتمكن من معرفة نصيب كل عقد من المصاريف القضائية فهنا يعاملها معاملة المصاريف الايرادية وفقا			
<input type="radio"/> الطريقة الايرادية	<input type="radio"/> الطريقة الراسمالية	<input type="radio"/> طريقة المجهودات الناجحة	<input type="radio"/> جميع الإجابات صحيحة
3. فيما يخص الايجارات السنوية اذا تمكنت الشركة من معرفة نصيب كل عقد على حدة فإنها تعامل معاملة المصاريف الجارية			
<input type="radio"/> الطريقة الايرادية	<input type="radio"/> الطريقة الراسمالية	<input type="radio"/> طريقة المجهودات الناجحة	<input type="radio"/> جميع الإجابات صحيحة
4. تمتلك الشركة ثلاثة عقود العقد الاول بكلفة 5000000 ، العقد الثاني بكلفة 7500000 ، والعقد الثالث 6000000 ، ولقد تبين ان العقد الاول غير منتج للنفط ، والعقد الثاني منتج بكميات تجارية ، ولازال العمل مستمر في العقد الثالث،، وفقا للطريقة الرأسمالية تكون تكلفة حساب العقود المنتجة هي			
<input type="radio"/> 13500000	<input type="radio"/> 7500000	<input type="radio"/> 6000000	<input type="radio"/> 18500000
<input type="radio"/> اجابة أخرى وهي			
5. اذا تبين ان انابيب تغليف البئر لا يمكن الاستفادة منها في عمليات حفر اخرى فانها تعامل معاملة			
عمليات الحفر	تجهيزات الحفر	الات الحفر	جميع الاجابات خاطئة
6. جميع نفقات الحفر والاعداد الملموسة تعامل معاملة اعمال تحت التشغيل			
عمليات الحفر	تجهيزات الحفر	الات الحفر	جميع الاجابات خاطئة
7- في بداية عام 2006 بلغ رصيد الآلات والمعدات 1550000 دينار، مخصص اندثارها المتراكم 600000 ، وقيمة انقاضها 50000 وان الاحتياطي المقدر انتاجه في المنطقة اول الفترة 3600000 برميل اما الانتاج خلال العام فبلغ 720000 برميل ، وفي سنة 2007 بلغت كمية الانتاج 432000 برميل			
اذا علمت ان الشركة تحتسب اندثار الآلات على اساس وحدات الانتاج، القيمة الخاضعة للاندثار في سنة 2006 هي:			
دينار 900000	دينار 950000	دينار 1550000	اجابات اخرى اذكرها

س2// يبلغ رصيد اجمالي عقود الامتياز غير المعده في بداية عام 2010 مبلغا قدره 32900000 دينار
يضم اربعة عقود غير معدة وهي عقد (1) كلفته 7000000 دينار عقد(2) كلفته 10000000 دينار
عقد(3) كلفته 7200000 دينار عقد (4) كلفته 8700000 دينار وقد تمت العمليات الاتية:
في عام 2010 تم التنازل عن العقد رقم (2) لعد وجود النفط فيه
في عام 2011 تم بيع العقد رقم (3) بسعر 7500000 دينار والتنازل عن العقد رقم (4) لعد وجود النفط
فيه

في عام 2012 وجد ان العقد رقم (1) منتج للنفط وبكميات تجارية
المطلوب// تسجيل القيود اليومية اللازمة اذا علمت ان الشركة في نهاية كل عام تحتفظ بمخصص اندثار
للعقود غير المعده 10% من اجمالي ارصدة العقود غير المعده
(15 درجة)

س3/ في احدى الشركات النفطية بلغ المخزون النفطي في مستودعات الشركة 120000 برميل وخلال العام
تمت العمليات التالية:

1. في شهر اذار بلغت كمية انتاج النفط الخام 250000 برميل ،وكمية مبيعات النفط الخام 300000
برميل ،ولقد استهلكت الشركة 4000 برميل في تشغيل الآلات.
2. في شهر حزيران بلغت كمية الانتاج 330000 برميل ،وكمية المبيعات 360000 برميل ،ولقد استهلكت
الشركة الكمية المتوفرة في مستودعات الشركة في تشغيل آلات.


المطلوب// تسجيل القيود اليومية اللازمة الخاصة بعمليات بيع وأستهلاك النفط فقط علما ان سعر البرميل
النفط عند الانتاج هو 12 دينار وعند البيع 18 دينار. اذا علمت ان جميع عمليات البيع تمت بشيك.
(15 درجة)


س4// تمتلك احدى الشركات النفطية عقدا تم تطويره جزئيا، حيث حفر به بئران منتجان وفيما يلي البيانات
المستخرجة من سجلات الشركة(المبالغ بالالف الدينارين) تكاليف الحصول على حق الامتياز 15400000،
تكاليف الحفر غير الملموسة لكامل العقد 16490000 تكلفة الحفر غير الملموسة المقدره للآبار غير
المحفورة 9990000 ، احتياطي اول المدة لكامل العقد 36000000 ، احتياطي اول المدة للآبار غير
المحفورة 24000000، احتياطي اخر المدة لكامل العقد 32500000، علما ان مخصص نفاد تكلفة العقد
1000000 ، ومخصص نفاد تكاليف الحفر غير الملموسة 2000000


المطلوب: (1) معدل نفاد تكلفة العقد بالطريقة الجزئية (2) قسط نفاد تكلفة العقد بطريقة كاليفورنيا (3)
معدل نفاد تكلفة الحفر بالطريقة الجزئية (4) معدل نفاد تكلفة الحفر بالطريقة الامريكية (5) معدل نفاد
الانتاج بالطريقة الامريكية

(15 درجة)

تمنياتنا لكم بالنجاح


الععيد


رئيس القسم


مدرسي المادة

أ.د. عبدالحسين توفيق

أ.م. د. الهام الشاوي

م.م. محمد فرج م مصطفى محمد السندي

المادة: منهجية بحث

المرحلة: الثالثة

التاريخ: / / 2024

الزمن: ساعتين



أسئلة الامتحان النهائي/الكورس
الاول / الدور الاول
للعام الدراسي
2024/2023



جامعة البصرة

كلية الإدارة والاقتصاد

قسم المحاسبة

الدراسة الصباحية والمسائية

ملاحظة: الاجابة عن اربعة اسئلة وتوزع الدرجات بالتساوي على جميع الاسئلة

س1/ املأ الفراغات التالية :

1- البحث العلمي في ايجاز شديد عبارة عن عملية فكرية منظمة يقوم بها شخص يسمى ----- من اجل تقصي الحقائق في شأن مشكلة معينة تسمى ----- باتباع طريقة علمية منظمة تسمى ----- للوصول الى نتائج صالحة للتعميم على المشاكل المماثلة تسمى ----- تحت رعاية وتوجيه شخص خبير يسمى -----.

2- الاشارة للمصادر في متن البحث اذا باحث واحد (----- و----- و-----).

3- تقسم البحوث اعتمادا على الغرض منها الى ----- و-----.

4- تقسم العينات الى ----- و-----.

س2/ عدد ما يلي

1- انواع الاستبيان 2- انواع العينات الاحتمالية . 3- مصادر الحصول على مشكلة البحث .

س3/ ضع صح امام العبارات الصحيحة وخطأ امام العبارات الخاطئة

1- الدول المتقدمة تولي اهتماما كبيرا للبحث العلمي لأنها ادركت ان عظمة الامم تكمن في قدرات ابنائها العلمية والفكرية .

2- اهم السمات الاساسية لعنوان البحث الجيد هو الجراءة في مناقشة الآراء المختلفة .

3- يتضمن البحث ثلاث مكونات رئيسة هي صفحات البحث الاولى والدراسات السابقة والمصادر والملاحق .

4- علامة التنصيص (".....") يوضع بينهما النص المقتبس مباشرة .

5- عند كتابة مستخلص البحث يجب ان لا يزيد حجم هذا المستخلص عن 25 سطرا .

6- تقسم البحوث اعتمادا على الاساليب المستخدمة فيها الى بحوث وصفية وتاريخية وتطبيقية

س4/ عدد اهم اخلاقيات البحث العلمي.

س5/ ماذا تتضمن صفحة عنوان البحث ?

مدرس المادة
مدرس المادة
رئيس القسم
العميد

أ.م.د. الهام جعفر الشاوي أ.د. عبدالحسين توفيق شبلي

م.م. رحاب احمد عبد

أ. م. وفاء عبد الصمد

المرحلة الرابعة



Note: Answer three questions, with the first question being part of the answer.
ملاحظة: اجب عن ثلاث اسئلة، على ان يكون السؤال الاول من ضمن الاجابة، مع تعزيز الاجابة بكافة العمليات الرياضية و الحسابية.

Q 1/ Choose the correct answer for 10 sentences:

1. Compared to financial accounting, managerial accounting places more emphasis on:
A) the flexibility of information. B) the precision of information.
C) the timeliness of information. D) both A and C above.
2. Indirect labor is a part of:
A) Prime cost. B) Conversion cost. C) Period cost. D) Nonmanufacturing cost.
3. Prime cost and conversion cost share what common element of total cost?
A) Direct materials. B) Direct labor. C) Variable overhead. D) Fixed overhead.
4. A cost incurred in the past that is not relevant to any current decision is classified as a(n):
A) period cost. B) opportunity cost. C) sunk cost. D) differential cost.
5. The term that refers to costs incurred in the past that are not relevant to a decision is:
A) marginal cost. B) indirect cost. C) period cost. D) sunk cost.
6. The break-even point in unit sales is found by dividing total fixed expenses by:
A) the contribution margin ratio. B) the variable expenses per unit.
C) the sales price per unit. D) the contribution margin per unit.
7. The determination of a cost as either direct or indirect depends upon the:
A) accounting system B) allocation system
C) cost tracing system D) cost object chosen
8. Budgeted costs are:
A) the costs incurred this year B) the costs incurred last year
C) planned or forecasted costs D) competitor's costs
9. Contribution margin equals:
A) revenues minus period costs B) revenues minus product costs
C) revenues minus variable costs D) revenues minus fixed costs
10. If unit outputs exceed the breakeven point:
A) there is a loss B) total sales revenue exceeds total costs
C) there is a profit D) Both total sales revenue exceeds total costs and there is a profit.
11. Manufacturing overhead costs are also referred to as:
A) indirect manufacturing costs B) prime costs
C) period costs D) direct material

----- (20 Marks)

Q 2/ How much will a company's net operating income change if it undertakes an advertising campaign given the following data:

Cost of advertising campaign	\$25,000
Variable expense as a percentage of sales	42%
Increase in sales	\$60,000
----- (15 Mark)	

Q 3/ Assume the following cost information for Fernandez Company:

- Selling price \$120 per unit
- Variable costs \$80 per unit
- Total fixed costs \$80,000
- Tax rate 40%

Required:

1. What is volume of sales dollars is required to earn an after-tax net income of \$30,000?
 2. What is the number of units that must be sold to earn an after-tax net income of \$42,000?
- (15 Mark)

Q 4/ Chesbrough, Inc., makes many of the components of its main product in-house. Recently, Berham Electronics offered to supply one component, K-25, at a price of \$6.50 each. Chesbrough uses 20,000 units of component K-25 each year. The absorption cost per unit of this component is as follows:

Direct materials	\$2.95
Direct labor	0.40
Variable overhead	1.80
Fixed overhead	4.00
Total	\$9.15

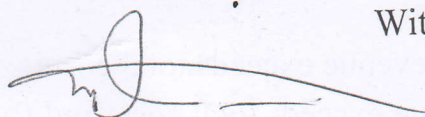
The fixed overhead is an allocated expense; none of it would be eliminated if production of component K-25 stopped.

Required

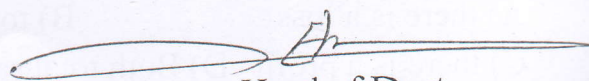
1. What are the alternatives facing Chesbrough, Inc., with respect to production of component K-25?
2. List the relevant costs for each alternative. Suppose that Chesbrough, Inc., purchases K-25 from Berham Electronics. By how much will operating income increase or decrease?

----- (15 Mark)

With my best wishes



Instructor
Dr. MOHANAD MOHAMED



Head of Dept.
Dr. ELHAM AL-SHAWI



Q 1// True or False

- 1- A favorable sales variance reflects an decrease in operating income.
- 2- When the actual market share is less than budget market share variance is unfavorable.
- 3- Sales quantity variance can be decomposed into market share variance and market size variance.
- 4- In ABC, activity cost is assigned to resources.
- 5- ABC is generally more costly to implement than Traditional costing.
- 6- Because activities driver. The cost of resources used in operations, a company should choose resource consumption cost drivers based on cause-and-effect.
- 7- In backflush costing , two trigger points purchase of direct material and incurring of conversion cost (stage A) and completion goods finished of product (stage).
- 8- One of the elements of JIT is the reorganization of the plant within form a pools.
- 9- Cost incur for defective product after shipment to customers is classified as internal failure cost.
- 10- Supplier evaluations is one element of Appraisal costs.
- 11- Quality is one that meets or exceeds customer expectation.
- 12- The split off point is where the joint products become separate and identifiable,
- 13- The product has low sales value compared with the sales value of the main product is called joint product.
- 14- Split-off point is the point of processing at which the point products are separated as individual product.
- 15- ABC system is less accurate product costing its provide less accurate and informative product costs.

15 marks

Q 2// Choice the correct answer:

- 1- Market share variance result from a difference between the:
 - a- Actual and budgeted market size x budget market share x budget contribution margin per unit.
 - b- Actual and budget market size x actual market share x budget contribution margin per unit.
 - c- - Actual and budgeted market size x budget market share x budget contribution margin.
 - d- Actual and budgeted market size x actual market share x budget contribution margin.
- 2- Sales mix variance equals the difference between:
 - a- Actual sales mix and budget sales mix x budget units sold for all product x budget contribution margin per unit.

b- Actual sales mix and budget sales mix x budget units sold for all product x actual contribution margin per unit.

c- Actual sales mix and budget sales mix x actual units sold for all product x budget contribution margin per unit.

d- Actual sales mix and budget sales mix x actual units sold for all product x actual contribution margin per unit.

3- The static budget variance will be favorable when:

a- Actual unit sales are less than budgeted unit sales.

b- The actual contribution margin is greater than the static budget contribution margin

c- The actual sales mix shift toward the less profitable unit.

d- the average contribution for the actual mix greater than for the budget mix.

4- Poskey Corporation uses an ABC system with three activity cost pools. The company has provided the following data concerning its costs and its activity based costing system:

Distribution of resources consumption

Activity cost pools

costs		Assembly	setting up	other	total
wages and salaries	\$400,000	40%	40%	20%	100%
Depreciation	160,000	20%	35%	45%	100%
Utilities	100,000	25%	55%	20%	100%

The total cost would be allocated in the first stage allocation to the Assembly activity cost pool:

a- \$187,000 b-\$264,000 c-\$217,000 d-\$165,000

5- The first stage of ABC entails the assignment of:

a- resource costs to department.

b-activity costs to product.

c- resource costs to distribution channels.

d- resource costs to individual activities

6- Al Basrah company produce three kinds of hats: rain hat, dust hat, and snow hat. The three products require 80,60, 180, setups. The budgeted machine setups cost are \$384. The amount of machine setups costs allocated to three products is:

a- \$128, \$128, \$128. b-\$80, \$60, \$180. C-\$96, \$72, \$216. d-\$72, \$128, \$184.

7-Games company manufactures various gams. For March, there were no beginning inventories of direct material and no beginning or ending work in process. Conversion costs are the only indirect manufacturing cost category currently used. Journal entries are recorded when materials are purchased and when conversion costs are allocated under backflush costing. Conversion costs March \$400, Direct material purchased Marsh \$1070, Units produced March 58,800, units sold 41,800, the journal entries properly records the purchase of direct material is:

a- A/P control 1070

b- Material and in process control 1070

Material and in process control 1070

A/p control 1070

c- Material and in process control 1070

d- conversion costs 1070

conversion costs 1070

material and in process control 1070

8- In backflash costing, alternative 3, the journal entry of completion of finished units is:

a- by finished goods control

b- by finished goods control

To standard conversion cost allocated

direct material

work in process control

c-by finished goods control

d-by finished goods control

To accounts payable

To, work in process control

Standard conversion cost allocated

9- A company adopted a JIT system for:

a- Avoids a buildup of parts and inventory.

b- provides an accurate cost allocation.

c- Replaces direct allocation method of assigning overhead cost.

d-Is based on a demand push theory.

10- Cost incur for defective products before their shipment to customers can be categorized as:

a- prevention costs.

b- External failure costs.

c-Appraisal costs.

d- internal failure costs.

11- An example of appraisal costs is:

a- product inspection. b-process engineering. C-Rework d- warranty repair

12- Money spent on employee training is a :

a- Empowerment cost. b- Appraisal cost. c-prevention cost. d-pareto cost

13-Al shams company produce two product x and y in a single joint process . last month the joint costs were \$75,000 when 10,000 units of product x and 15,000 units of product y were produced, additional processing costs were \$15,000 for product x and \$10,000 for product y, product x sells for \$10, and product y sells for \$5. The joint cost allocated to product x and y using the physical units method would be:

a- \$42,500: \$32,500.

b-\$30,000:45,000.

C-\$45,000: \$30,000.

d-Another answer.

14- When a joint production process yields two or more products with high total sales values, these products are called:

a- main product. b-scrap. C-byproducts. d- Joint product.

15- All costs incurred after the split-off point that are assignable to one or more individual products are called:

a-Separable costs. b- byproduct costs. c- main costs. d- joint costs.

15 marks

Answer 2 of the following:

Q3// Kardlan company manufactures two types of soap, Budgeted and actual operating data for 2022 are as follows :

Budget data

	Selling price per units	Variable cost per units	Units sold
Normal soaps	\$20	\$12	10,000
Luxury soaps	\$40	\$30	5,000

Actual data:

	Selling price per units	Variable cost per units	Units sold
Normal soaps	\$19	\$10	12,000
Luxury soaps	\$42	\$35	4,000

The company estimated budget market size of 50,000 units and budget market share of 30%. The actual market size is 64,000 units and actual market share is 25%

Required: Compute all sales variance.

10 marks

Q 4//: Jardon company cleaning Brigade company provides housecleaning services to its clients. The company uses an activity-based costing system for its overhead costs. the company has provided data from its ABC costing system

Activity cost pool	Total cost	Total Activity
Cleaning	\$274,170	48,100 hours
Job support	\$99,066	5,700 jobs
Client support	\$9,796	620 clients
Other	\$110,000	Not applicable

The other activity cost pool consists of the costs of idle capacity and organization sustaining costs. One particular client, the Lazzara family requested 37 jobs during the year that required a total of 222 hours of housecleaning. For this service, the client was charged \$2,350.

Required: (a) using the ABC costing system compute the customer margin for the Lazzara family .

(b) Assume the company decides instead to use a traditional costing system in which all costs are allocated to customers on the basis of cleaning hours. Compute the margin for the Lazzara family.

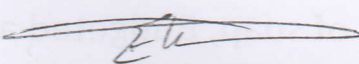
10 marks

Q 5// Al Messar company produce and sells watches. The following data is pertaining to cost of quality in two years:


Details	2020(in\$)	2021(in\$)
sales	3,920,000	3,520,000
Cost of quality:		
Scrap	28,800	30,100
Warranty repair	70,000	75,000
Repair of returned product units	272,000	195,000
Preventive maintenance	220,000	152,000
Incoming material testing	105,000	75,000
Product inspection	150,000	150,000

Required: Compute cost of quality as a percentage of sales for each of the two years.

10 marks


A.P.D. Elaham J. Hame
 Head of Department

Good luck


A.P. Fayhaa.A. Mahmmmod
 Lecturer



Note: Answer three questions, with the first question being part of the answer.

ملاحظة: اجب عن ثلاث اسئلة، على ان يكون السؤال الاول من ضمن الاجابة، مع تعزيز الاجابة بكافة العمليات الرياضية و الحسابية.

Q 1/ Crash Dobson, former all-state high school football player, owns a retail store that sells new and used sporting equipment. Crash has requested a cash budget for October. After examining the records of the company, you find the following:

a. Cash balance on October 1 is \$1,980.

b. Actual sales for August and September are as follows:

	August	September
Cash sales	\$15,000	\$ 20,000
Credit sales	80,000	90,000
Total sales	\$95,000	\$110,000

c. Credit sales are collected over a three-month period: 50 percent in the month of sale, 30 percent in the second month, and 15 percent in the third month. The remaining sales are uncollectible.

d. Inventory purchases average 70 percent of a month's total sales. Of those purchases, 40 percent are paid for in the month of purchase. The remaining 60 percent are paid for in the following month.

e. Salaries and wages total \$2,000 per month.

f. Rent is \$2,700 per month.

g. Taxes to be paid in October are \$5,000.

h. Crash usually withdraws \$4,000 each month as his salary.

i. Advertising is \$500 per month.

j. Other operating expenses total \$800 per month.

Crash tells you that he expects cash sales of \$10,000 and credit sales of \$65,000 for October. He likes to have \$2,000 on hand at the end of the month and is concerned about the potential October ending balance.

Required: Prepare a cash budget for October. Include supporting schedules for cash collections and cash payments.

(20 Marks)

Q 2/ Weber Company produces floor mats used in gyms and dojos. The sales budget for four months of the year is as follows:

	Unit Sales	Dollar Sales
April	12,000	\$ 288,000
May	50,000	1,200,000
June	30,000	720,000
July	28,000	672,000

Company policy requires that ending inventories for each month be 15 percent of next month's sales. At the beginning of April, the beginning inventory of mats met that policy.

Required:

Prepare a production budget for the second quarter of the year. Show the number of units that should be produced each month as well as for the quarter in total.

----- (15 Mark)


Q 3/ (Ignore income taxes in this problem.) Mercer Corporation is considering replacing a technologically obsolete machine with a new state-of-the-art numerically controlled machine. The new machine would cost \$250,000 and would have a ten-year useful life. Unfortunately, the new machine would have no salvage value. The new machine would cost \$12,000 per year to operate and maintain, but would save \$55,000 per year in labor and other costs. The old machine can be sold now for scrap for \$10,000. What is the closest rate of return on the new machine?

----- (15 Mark)

Q 4/ (Ignore income taxes in this problem.) Major Corporation is considering the purchase of a new machine for \$5,000. The machine has an estimated useful life of 5 years and no salvage value. The machine will increase Major's cash flows by \$2,000 annually for 5 years. Major uses straight-line depreciation. The company's required rate of return is 10%. What is the payback period for the machine?

----- (15 Mark)

With my best wishes


Instructor

Dr. MOHANAD MOHAMED


Head of Dept.

Dr. ELHAM AL-SHAWI

EXHIBIT 20B-2

Present Value of an Annuity of \$1 in Arrears*

Periods	2%	4%	6%	8%	10%	12%	14%	16%	18%	20%	22%	24%	26%	28%	30%	32%	40%
1	0.980	0.962	0.943	0.926	0.909	0.893	0.877	0.862	0.847	0.833	0.820	0.806	0.794	0.781	0.769	0.758	0.714
2	1.942	1.866	1.833	1.783	1.736	1.690	1.647	1.605	1.566	1.528	1.492	1.457	1.424	1.392	1.361	1.331	1.224
3	2.884	2.775	2.673	2.577	2.487	2.402	2.322	2.246	2.174	2.106	2.042	1.981	1.923	1.868	1.816	1.766	1.589
4	3.808	3.630	3.465	3.312	3.170	3.037	2.914	2.798	2.690	2.589	2.494	2.404	2.320	2.241	2.166	2.096	1.849
5	4.713	4.452	4.212	3.993	3.791	3.605	3.433	3.274	3.127	2.991	2.864	2.745	2.635	2.532	2.436	2.345	2.035
6	5.601	5.242	4.917	4.623	4.355	4.111	3.889	3.685	3.498	3.326	3.167	3.020	2.885	2.759	2.643	2.534	2.168
7	6.472	6.002	5.582	5.206	4.868	4.564	4.288	4.039	3.812	3.605	3.416	3.242	3.083	2.937	2.802	2.677	2.263
8	7.325	6.733	6.210	5.747	5.335	4.968	4.639	4.344	4.078	3.837	3.619	3.421	3.241	3.076	2.925	2.786	2.331
9	8.162	7.435	6.802	6.247	5.759	5.328	4.946	4.607	4.303	4.031	3.786	3.566	3.366	3.184	3.019	2.868	2.379
10	8.983	8.111	7.360	6.710	6.145	5.650	5.216	4.833	4.494	4.192	3.923	3.682	3.465	3.269	3.092	2.930	2.414
11	9.787	8.760	7.887	7.139	6.495	5.938	5.453	5.029	4.656	4.327	4.035	3.776	3.543	3.335	3.147	2.978	2.438
12	10.575	9.385	8.384	7.536	6.814	6.194	5.660	5.197	4.793	4.439	4.127	3.851	3.606	3.387	3.190	3.013	2.456
13	11.348	9.986	8.853	7.904	7.103	6.424	5.842	5.342	4.910	4.533	4.203	3.912	3.656	3.427	3.223	3.040	2.469
14	12.106	10.563	9.295	8.244	7.367	6.628	6.002	5.468	5.008	4.611	4.265	3.962	3.695	3.459	3.249	3.061	2.478
15	12.849	11.118	9.712	8.559	7.606	6.811	6.142	5.575	5.092	4.675	4.315	4.001	3.726	3.483	3.268	3.076	2.484
16	13.578	11.652	10.106	8.851	7.824	6.974	6.265	5.668	5.162	4.730	4.357	4.033	3.751	3.503	3.283	3.088	2.489
17	14.292	12.166	10.477	9.122	8.022	7.120	6.373	5.749	5.222	4.775	4.391	4.059	3.771	3.518	3.295	3.097	2.492
18	14.992	12.659	10.828	9.372	8.201	7.250	6.467	5.818	5.273	4.812	4.419	4.080	3.786	3.529	3.304	3.104	2.494
19	15.678	13.134	11.158	9.604	8.365	7.366	6.550	5.877	5.316	4.843	4.442	4.097	3.799	3.539	3.311	3.109	2.496
20	16.351	13.590	11.470	9.818	8.514	7.469	6.623	5.929	5.353	4.870	4.460	4.110	3.808	3.546	3.316	3.113	2.497
21	17.011	14.029	11.764	10.017	8.649	7.562	6.687	5.973	5.384	4.891	4.476	4.121	3.816	3.551	3.320	3.116	2.498
22	17.658	14.451	12.042	10.201	8.772	7.645	6.743	6.011	5.410	4.909	4.488	4.130	3.822	3.556	3.323	3.118	2.498
23	18.292	14.857	12.303	10.371	8.883	7.718	6.792	6.044	5.432	4.925	4.499	4.137	3.827	3.559	3.325	3.120	2.499
24	18.914	15.247	12.550	10.529	8.985	7.784	6.835	6.073	5.451	4.937	4.507	4.143	3.831	3.562	3.327	3.121	2.499
25	19.523	15.622	12.783	10.675	9.077	7.843	6.873	6.097	5.467	4.948	4.514	4.147	3.834	3.564	3.329	3.122	2.499
26	20.121	15.983	13.003	10.810	9.161	7.896	6.906	6.118	5.480	4.956	4.520	4.151	3.837	3.566	3.330	3.123	2.500
27	20.707	16.330	13.211	10.935	9.237	7.943	6.935	6.136	5.492	4.964	4.524	4.154	3.839	3.567	3.331	3.123	2.500
28	21.281	16.663	13.406	11.051	9.307	7.984	6.961	6.152	5.502	4.970	4.528	4.157	3.840	3.568	3.331	3.124	2.500
29	21.844	16.984	13.591	11.158	9.370	8.022	6.983	6.166	5.510	4.975	4.531	4.159	3.841	3.569	3.332	3.124	2.500
30	22.396	17.292	13.765	11.258	9.427	8.055	7.003	6.177	5.517	4.979	4.534	4.160	3.842	3.569	3.332	3.124	2.500

EXHIBIT 20B-1

Present Value of \$1*

Periods	2%	4%	6%	8%	10%	12%	14%	16%	18%	20%	22%	24%	26%	28%	30%	32%	40%
1	0.980	0.962	0.943	0.926	0.909	0.893	0.877	0.862	0.847	0.833	0.820	0.806	0.794	0.781	0.769	0.758	0.714
2	0.961	0.925	0.890	0.857	0.826	0.797	0.769	0.743	0.718	0.694	0.672	0.650	0.630	0.610	0.592	0.574	0.510
3	0.942	0.889	0.840	0.794	0.751	0.712	0.675	0.641	0.609	0.579	0.551	0.524	0.500	0.477	0.455	0.435	0.364
4	0.924	0.855	0.792	0.735	0.683	0.636	0.592	0.552	0.516	0.482	0.451	0.423	0.397	0.373	0.350	0.329	0.260
5	0.906	0.822	0.747	0.681	0.621	0.567	0.519	0.476	0.437	0.402	0.370	0.341	0.315	0.291	0.269	0.250	0.186
6	0.888	0.790	0.705	0.636	0.564	0.507	0.456	0.410	0.370	0.335	0.303	0.275	0.250	0.227	0.207	0.189	0.133
7	0.871	0.760	0.665	0.583	0.513	0.452	0.400	0.354	0.314	0.279	0.249	0.222	0.198	0.178	0.159	0.143	0.095
8	0.853	0.731	0.627	0.540	0.467	0.404	0.351	0.305	0.266	0.233	0.204	0.179	0.157	0.139	0.123	0.108	0.068
9	0.837	0.703	0.592	0.500	0.424	0.361	0.308	0.263	0.225	0.194	0.167	0.144	0.125	0.108	0.094	0.082	0.048
10	0.820	0.676	0.558	0.463	0.386	0.322	0.270	0.227	0.191	0.162	0.137	0.116	0.099	0.085	0.073	0.062	0.035
11	0.804	0.650	0.527	0.429	0.350	0.287	0.237	0.195	0.162	0.135	0.112	0.094	0.079	0.066	0.056	0.046	0.025
12	0.788	0.625	0.497	0.397	0.319	0.257	0.208	0.168	0.137	0.112	0.092	0.076	0.062	0.052	0.043	0.036	0.018
13	0.773	0.601	0.469	0.368	0.290	0.229	0.182	0.145	0.116	0.093	0.075	0.061	0.050	0.040	0.033	0.027	0.013
14	0.758	0.577	0.442	0.340	0.263	0.205	0.160	0.125	0.099	0.078	0.062	0.049	0.039	0.032	0.025	0.021	0.009
15	0.743	0.555	0.417	0.315	0.239	0.183	0.140	0.108	0.084	0.065	0.051	0.040	0.031	0.025	0.020	0.016	0.006
16	0.728	0.534	0.394	0.292	0.218	0.163	0.123	0.093	0.071	0.054	0.042	0.032	0.025	0.019	0.015	0.012	0.005
17	0.714	0.513	0.371	0.270	0.198	0.146	0.108	0.080	0.060	0.045	0.034	0.026	0.020	0.015	0.012	0.009	0.003
18	0.700	0.494	0.350	0.250	0.180	0.130	0.095	0.069	0.051	0.038	0.028	0.021	0.016	0.012	0.009	0.007	0.002
19	0.686	0.475	0.331	0.232	0.164	0.116	0.083	0.060	0.043	0.031	0.023	0.017	0.012	0.009	0.007	0.005	0.002
20	0.673	0.456	0.312	0.215	0.149	0.104	0.073	0.051	0.037	0.026	0.019	0.014	0.010	0.007	0.005	0.004	0.001
21	0.660	0.439	0.294	0.199	0.135	0.093	0.064	0.044	0.031	0.022	0.015	0.011	0.008	0.006	0.004	0.003	0.001
22	0.647	0.422	0.278	0.184	0.123	0.083	0.056	0.038	0.026	0.018	0.013	0.009	0.006	0.004	0.003	0.002	0.001
23	0.634	0.406	0.262	0.170	0.112	0.074	0.049	0.033	0.022	0.015	0.010	0.007	0.005	0.003	0.002	0.002	0.000
24	0.622	0.390	0.247	0.158	0.102	0.066	0.043	0.028	0.019	0.013	0.008	0.006	0.004	0.003	0.002	0.001	0.000
25	0.610	0.375	0.233	0.146	0.092	0.059	0.038	0.024	0.016	0.010	0.007	0.005	0.003	0.002	0.001	0.001	0.000
26	0.598	0.361	0.220	0.135	0.084	0.053	0.033	0.021	0.014	0.009	0.006	0.004	0.002	0.002	0.001	0.001	0.000
27	0.586	0.347	0.207	0.125	0.076	0.047	0.029	0.018	0.011	0.007	0.005	0.003	0.002	0.002	0.001	0.001	0.000
28	0.574	0.333	0.196	0.116	0.069	0.042	0.026	0.016	0.010	0.006	0.004	0.002	0.002	0.001	0.001	0.001	0.000
29	0.563	0.321	0.185	0.107	0.063	0.037	0.022	0.014	0.008	0.005	0.003	0.002	0.001	0.001	0.000	0.000	0.000
30	0.552	0.308	0.174	0.099	0.057	0.033	0.020	0.012	0.007	0.004	0.003	0.002	0.001	0.001	0.000	0.000	0.000



Q 1// True or False

- 1- A favorable sales variance reflects an decrease in operating income.
- 2- When the actual market share is less than budget market share variance is unfavorable.
- 3- Sales quantity variance can be decomposed into market share variance and market size variance.
- 4- In ABC, activity cost is assigned to resources.
- 5- ABC is generally more costly to implement than Traditional costing.
- 6- Because activities driver. The cost of resources used in operations, a company should choose resource consumption cost drivers based on cause-and-effect.
- 7- In backflush costing , two trigger points purchase of direct material and incurring of conversion cost (stage A) and completion goods finished of product (stage).
- 8- One of the elements of JIT is the reorganization of the plant within form a pools.
- 9- Cost incur for defective product after shipment to customers is classified as internal failure cost.
- 10- Supplier evaluations is one element of Appraisal costs.
- 11- Quality is one that meets or exceeds customer expectation.
- 12- The split off point is where the joint products become separate and identifiable,
- 13- The product has low sales value compared with the sales value of the main product is called joint product.
- 14- Split-off point is the point of processing at which the point products are separated as individual product.
- 15- ABC system is less accurate product costing its provide less accurate and informative product costs.

15 marks

Q 2// Choice the correct answer:

- 1- Market share variance result from a difference between the:
 - a- Actual and budgeted market size x budget market share x budget contribution margin per unit.
 - b- Actual and budget market size x actual market share x budget contribution margin per unit.
 - c- - Actual and budgeted market size x budget market share x budget contribution margin.
 - d- Actual and budgeted market size x actual market share x budget contribution margin.
- 2- Sales mix variance equals the difference between:
 - a- Actual sales mix and budget sales mix x budget units sold for all product x budget contribution margin per unit.

b- Actual sales mix and budget sales mix x budget units sold for all product x actual contribution margin per unit.

c- Actual sales mix and budget sales mix x actual units sold for all product x budget contribution margin per unit.

d- Actual sales mix and budget sales mix x actual units sold for all product x actual contribution margin per unit.

3- The static budget variance will be favorable when:

a- Actual unit sales are less than budgeted unit sales.

b- The actual contribution margin is greater than the static budget contribution margin

c- The actual sales mix shift toward the less profitable unit.

d- the average contribution for the actual mix greater than for the budget mix.

4- Poskey Corporation uses an ABC system with three activity cost pools. The company has provided the following data concerning its costs and its activity based costing system:

Distribution of resources consumption

Activity cost pools

costs		Assembly	setting up	other	total
wages and salaries	\$400,000	40%	40%	20%	100%
Depreciation	160,000	20%	35%	45%	100%
Utilities	100,000	25%	55%	20%	100%

The total cost would be allocated in the first stage allocation to the Assembly activity cost pool:

a- \$187,000 b-\$264,000 c-\$217,000 d\$165,000

5- The first stage of ABC entails the assignment of:

a- resource costs to department.

b-activity costs to product.

c- resource costs to distribution channels. d- resource costs to individual activities

6- Al Basrah company produce three kinds of hats: rain hat, dust hat, and snow hat. The three products require 80,60, 180, setups. The budgeted machine setups cost are \$384.

The amount of machine setups costs allocated to three products is:

a- \$128, \$128, \$128. b-\$80, \$60, \$180. C-\$96, \$72, \$216. d-\$72, \$128, \$184.

7-Games company manufactures various gams. For March, there were no beginning inventories of direct material and no beginning or ending work in process. Conversion costs are the only indirect manufacturing cost category currently used. Journal entries are recorded when materials are purchased and when conversion costs are allocated under backflush costing. Conversion costs March \$400, Direct material purchased Marsh \$1070, Units produced March 58,800, units sold 41,800, the journal entries properly records the purchase of direct material is:

a- A/P control 1070 b- Material and in process control 1070

Material and in process control 1070 A/p control 1070

c- Material and in process control 1070

d- conversion costs 1070

conversion costs 1070

material and in process control 1070

8- In backflash costing, alternative 3, the journal entry of completion of finished units is:

a- by finished goods control

b- by finished goods control

To standard conversion cost allocated

direct material

work in process control

c-by finished goods control

d-by finished goods control

To accounts payable

To, work in process control

Standard conversion cost allocated

9- A company adopted a JIT system for:

a- Avoids a buildup of parts and inventory.

b- provides an accurate cost allocation.

c- Replaces direct allocation method of assigning overhead cost.

d-Is based on a demand push theory.

10- Cost incur for defective products before their shipment to customers can be categorized as:

a- prevention costs.

b- External failure costs.

c-Appraisal costs.

d- internal failure costs.

11- An example of appraisal costs is:

a- product inspection. b-process engineering. C-Rework d- warranty repair

12- Money spent on employee training is a :

a- Empowerment cost. b- Appraisal cost. c-prevention cost. d-pareto cost

13- Al shams company produce two product x and y in a single joint process . last month the joint costs were \$75,000 when 10,000 units of product x and 15,000 units of product y were produced, additional processing costs were \$15,000 for product x and \$10,000 for product y, product x sells for \$10, and product y sells for \$5. The joint cost allocated to product x and y using the physical units method would be:

a- \$42,500: \$32,500.

b-\$30,000:45,000.

C-\$45,000: \$30,000.

d-Another answer.

14- When a joint production process yields two or more products with high total sales values, these products are called:

a- main product. b-scrap. C-byproducts. d- Joint product.

15- All costs incurred after the split-off point that are assignable to one or more individual products are called:

a-Separable costs. b- byproduct costs. c- main costs. d- joint costs.

15 marks

Answer 2 of the following:

Q3// Kardlan company manufactures two types of soap, Budgeted and actual operating data for 2022 are as follows :

Budget data

	Selling price per units	Variable cost per units	Units sold
Normal soaps	\$20	\$12	10,000
Luxury soaps	\$40	\$30	5,000

Actual data:

	Selling price per units	Variable cost per units	Units sold
Normal soaps	\$19	\$10	12,000
Luxury soaps	\$42	\$35	4,000

The company estimated budget market size of 50,000 units and budget market share of 30%. The actual market size is 64,000 units and actual market share is 25%

Required: Compute all sales variance.

10 marks

Q 4//: Jardon company cleaning Brigade company provides housecleaning services to its clients. The company uses an activity-based costing system for its overhead costs. the company has provided data from its ABC costing system

Activity cost pool	Total cost	Total Activity
Cleaning	\$274,170	48,100 hours
Job support	\$99,066	5,700 jobs
Client support	\$9,796	620 clients
Other	\$110,000	Not applicable

The other activity cost pool consists of the costs of idle capacity and organization sustaining costs. One particular client, the Lazzara family requested 37 jobs during the year that required a total of 222 hours of housecleaning. For this service, the client was charged \$2,350.

Required: (a) using the ABC costing system compute the customer margin for the Lazzara family .

(b) Assume the company decides instead to use a traditional costing system in which all costs are allocated to customers on the basis of cleaning hours. Compute the margin for the Lazzara family.


10 marks

Q 5// Al Messar company produce and sells watches. The following data is pertaining to cost of quality in two years:


Details	2020(in\$)	2021(in\$)
sales	3,920,000	3,520,000
Cost of quality:		
Scrap	28,800	30,100
Warranty repair	70,000	75,000
Repair of returned product units	272,000	195,000
Preventive maintenance	220,000	152,000
Incoming material testing	105,000	75,000
Product inspection	150,000	150,000

Required: Compute cost of quality as a percentage of sales for each of the two years.

10 marks


A.P.D. Elaham J. Hame
Head of Department

Good luck


A.P. Fayhaa.A. Mahmmmod
Lecturer



ملاحظة / الاجابة عن خمسة أسئلة . لكل سؤال ١٠ درجات

- س١ / أجب عن كلا الفرعين :
- أ- بصفتك مراقب حسابات ، ماذا يعني لك سجل السيطرة على إجراءات التدقيق وماذا يتضمن . وضح ذلك .
ب- عدد خمسة من معايير إعداد التقرير التي يجب أن يلتزم بها مراقب الحسابات عند كتابة تقريره حول البيانات المالية.
- س٢ / أجب عن كلا الفرعين :
- أ- بصفتك مراقب حسابات ، ما هي الإجراءات التي يجب اتخاذها من قبلك بخصوص الإيضاحات والاستفسارات والاختفاء المثبتة في سجل الملاحظات و التي أشرت وأثيرت خلال عملية التدقيق .
ب- يتأثر شكل ومضمون ورقة العمل بعدة أمور ، عدد خمسة منها .
- س٣ / يقسم نظام الرقابة الداخلية الى أربعة اقسام ، عرف نظام الرقابة الداخلية وعدد اقسامه مع ذكر امثلة لكل نوع .
- س٤ / ما هي الأمور التي يجب اخذها بنظر الاعتبار من قبل مراقب الحسابات عند اعداد خطة التدقيق .
- س٥ / بصفتك مراقب حسابات خارجي بين أي من العبارات التالية صحيحة واياها خاطئة :
- ١- لا يمكن لمراقب الحسابات تعديل تقييمه السابق عن كفاية نظام الرقابة الداخلية في ضوء الأخطاء التي يتم اكتشافها في الاختبارات الجوهرية .
 - ٢- لا يمكن لمراقب الحسابات استخدام الجداول والتحليل المعدة من قبل المنشأة واعتمادها كأوراق عمل في إنجاز عملية التدقيق .
 - ٣- تمثل اختبارات الالتزام إجراءات يتم تصميمها للحصول على قناعة معقولة باكتمال ودقة وصحة البيانات التي يقدمها النظام المحاسبي
 - ٤- لا يعتبر مراقب الحسابات مسؤولاً عن القيام بأية إجراءات للتعرف على الأحداث بعد تأريخ تقريره .
 - ٥- يمثل جهاز التدقيق الداخلي : أنواع السياسات والإجراءات المتخذة من قبل الإدارة التي تكفل تحقيق أهداف المنشأة
 - ٦- إن التعرف على طبيعة العمل هو جزء مهم من عملية التخطيط إذ يساعد مراقب الحسابات على تشخيص الأحداث والممارسات والمعلومات التي قد يكون لها تأثير على البيانات المالية .
 - ٧- لا يجوز لمراقب الحسابات تزويد أوراق عمله لأية جهة كانت إلا بموجب نص قانوني او حكم قضائي .
 - ٨- على مراقب الحسابات أن يفترض وجود مخاطر ضبط عالية لحين التأكد من إثبات قوة ومثانة نظام الرقابة الداخلية في حماية تلك البيانات من الأخطاء المادية وذلك بهدف تأكيد سلامة البيانات .
 - ٩- يكون التخطيط للتدقيق عملية غير مستمرة ويحدث قبل فترة التدقيق ويهدف إلى وضع خطة عامة لنطاق العمل التدقيقي المتوقع
 - ١٠- إذا قرر مراقب الحسابات الاعتماد على أنظمة رقابة داخلية معينة فإنه غالباً ما ترتفع الاختبارات الجوهرية والعكس صحيح .

س ٨/ اختر الإجابة الصحيحة لما يأتي :

١- لغرض تحقيق خطة التدقيق يجب على مراقب الحسابات :

- أ- تحديد مستوى الأهمية النسبية .
- ب- تحديد مخاطر التدقيق .
- ج- التعرف على صيغة التكليف بأعمال التدقيق .
- د- جميع ما ذكر أعلاه .

٢- على مراقب الحسابات أن يوثق أوراق عمله فيما يخص نواحي معرفته بالنظام المحاسبي ونظام الرقابة الداخلية وتقدير مخاطر الضبط خاصة :

- أ- عندما تكون مرتفعة .
- ب- عندما تكون منخفضة .
- ج- لا يوثق ذلك .
- د- لا شيء مما ذكر أعلاه .

٣- لتقدير المخاطر الضمنية (مخاطر القصور الذاتي) يستخدم المدقق :

- أ- أوراق عمل المدقق السابق
- ب- حكمه المهني
- ج- الملخص التذكيري
- د- (ب) و (ج) صحيحة

٤- على مراقب الحسابات اعتماد المعايير الأساسية للتدقيق في :

- أ- كل الأمور والحالات التي يحتمل ان يكون لها تأثير على قرارات مستخدم البيانات المالية.
- ب- بعض الحالات الهامة التي تؤثر على قرارات مستخدم البيانات المالية .
- ج- حسب رغبة مراقب الحسابات وخطة التدقيق المرسومة.
- د- لا شيء مما ذكر أعلاه .

٥- إذا تطلب الأمر وحسب قناعة مراقب الحسابات تعديل البيانات المالية ورفضت الإدارة إجراء ذلك التعديل يجب على مراقب الحسابات :

- أ- أن يحتفظ في رأيه
- ب- أن يبدي رأياً سلبياً
- ج- أن ينسحب من مهمة التدقيق
- د- (أ) أو (ب) صحيحة وحسب مقتضى الحال

٦- يشمل نظام الضبط الداخلي :

- أ- مجموعة من النظم والأساليب التي تساعد في فحص وتقويم جميع نواحي النشاط
- ب- الخطة التنظيمية والوسائل والإجراءات التي تتعلق بصفة أساسية في المحافظة على موجودات المنشأة
- ج- مجموعة الإجراءات والوسائل التنظيمية والمحاسبية التي تهدف إلى ضبط عمليات المنشأة
- د- ب و ج صحيحة

٧- ان التخطيط لعملية التدقيق يقتضي الاتي عدا واحدة :

- أ- التعرف على حجم وطبيعة عمل المنشأة التي سيتم تدقيقها .
- ب- جدولة إجراءات التدقيق التي سيتم تنفيذها حسب طبيعتها وأوقات تنفيذها .
- ج- الالتزام بالقوانين والانظمة المرعية في اعداد البيانات المالية .
- د- تحديد عدد الموظفين الذين سيكلفون بالتدقيق ومستوياتهم الوظيفية .

٨- يعتبر رأي مراقب الحسابات تعبيراً عن قناعته بوجود التزام بالامور ادناه ، واحدة مما يأتي ليست صحيحة :

- أ- وجود إيضاحات كافية للامور الهامة بشأن البيانات المالية .
- ب- ان البيانات المالية تعبر عن المركز المالي ونتائج النشاط .
- ج- أن مراقب الحسابات قام بإعداد الحسابات بصورة صحيحة .
- د- التزام الإدارة بالقوانين والأنظمة في اعداد البيانات المالية .

٩- في حالة توصل مراقب الحسابات لأي من الاستنتاجين (عدم وجود جدوى من الاستمرار بتقويم النظام ، كانت المبالغ المنفقة على فحص وتقويم نظام الرقابة الداخلية تفوق المنافع المتوقعة من ذلك الفحص) فإنه :

- أ- يقدم اعتذاره وينسحب من مهمة التدقيق
- ب- يبدي رأياً سلبياً بالبيانات المالية ويقدم تقريره للإدارة
- ج- يصمم برنامجاً مكثفاً للاختبارات الجوهرية دون الاعتماد على أي من إجراءات الرقابة الداخلية.
- د- جميع ما ذكر أعلاه

١٠- تكون الخطة العامة للتدقيق :-

- أ- سنوية فقط
- ب- سنوية أو نصف سنوية أو فصلية أو وفقاً لحاجة أو طبيعة العمل على أن تكون أكثر تفصيلاً
- ج- اعتماد خطط قصيرة الأمد كأن تكون نصف سنوية أو فصلية فقط
- د- وفقاً لحاجة أو طبيعة العمل على أن تكون أكثر تفصيلاً

نتمنى لكم النجاح والتوفيق